



امتحان الصف الحادي عشر
للعام الدراسي ١٤٣٤/١٤٣٥ هـ - ٢٠١٣/٢٠١٤ م
الدور الثاني - الفصل الدراسي الأول

- المادة: الدراسات الاجتماعية (هذا وطني في السيرة الحضارية لعمان) ● عدد صفحات أسئلة الامتحان: (٦).
- زمن الإجابة: ساعتان
- الإجابة في الورقة نفسها.

			اسم الطالب
	الصف		المدرسة

الدرجة بالأرقام (بالأحمر)		الدرجة بالحروف (بالأحمر)	(التوقيع بالاسم)		السؤال
عشرات	آحاد		المصحح (بالأحمر)	المدقق (بالأخضر)	
					١
					٢
					٣
					٤
			جمعه (بالأحمر)	مراجعة الجمع والتشطيب (بالأزرق)	المجموع
٦٠					المجموع الكلي

امتحان الصف الحادي عشر

للعام الدراسي ١٤٣٤/١٤٣٥ هـ — ٢٠١٣ / ٢٠١٤ م

الدور الثاني - الفصل الدراسي الأول

- **المادة: الدراسات الاجتماعية (هذا وطني في السيرة الحضارية لعمان)**
- **تنبيه: الأسئلة في (٦) صفحات.**
- **زمن الإجابة: ساعتان.**


أجب عن جميع الأسئلة الآتية:

السؤال الأول: ضع دائرة حول رمز الإجابة الصحيحة لكل مفردة من المفردات الآتية:


- (١) تحد الأقاليم المعتدلة الرطبة سلطنة عمان من جهة:
 أ - الشمال. ب - الجنوب. ج - الشرق. د - الغرب.
- (٢) الرحالة الذي زار مدينة الشحر في القرن ١٣م، وأشار إلى شهرتها التجارية:
 أ - ابن بطوطة. ب - ماركو بولو. ج - ابن حوقل. د - جانج جيان.



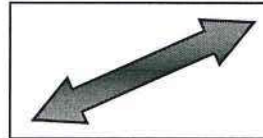
(٣) تمتد سلسلة جبال الحجر الغربي على شكل قوس باتجاه:




-د



-ج

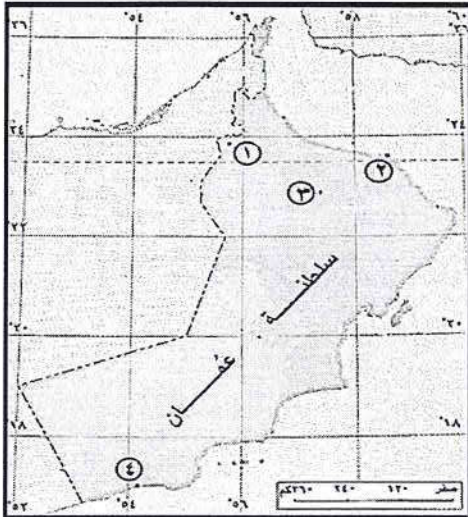


-ب



-أ

(٤) الرقم الذي يشير إلى عاصمة عمان الداخلية زمن مالك بن فهم:



أ - ١

ب - ٢

ج - ٣

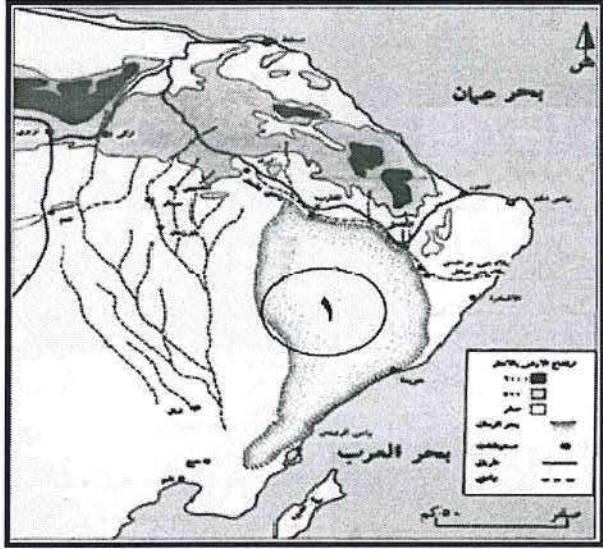
د - ٤

(٥) المكان الأنسب لقضاء صيف معتدل في السلطنة:

- أ - قنتب. ب - صحار. ج - سيق. د - آدم.

(٢)
امتحان الصف الحادي عشر
للعام الدراسي ١٤٣٥/١٤٣٤ هـ — ٢٠١٣ / ٢٠١٤ م
الدور الثاني - الفصل الدراسي الأول
المادة : الدراسات الاجتماعية " هذا وطني "

تابع السؤال الأول:



٦ (الشكل التضاريسي المشار إليه بالرقم (١) في الخريطة المقابلة:

- أ - هضاب .
- ب - أخوار .
- ج - سلاسل جبلية .
- د - كثبان رملية.

٧ (المنطقة الجغرافية التي أطلق عليها السومريون اسم جبل النحاس في عمان:

- أ - الجنوبية.
- ب - الشرقية .
- ج - الغربية .
- د - الشمالية.

٨ (المعلم الأثري الأبرز الذي تشاهده عند زيارتك لمستوطنة بات:

- أ- معابد.
- ب- مدافن.
- ج- تماثيل صخرية.
- د- أسوار خارجية.

٩ (تتميز الأسرة العمانية قديماً بـ:

- أ - التكوين المعقد.
- ج - صغر الحجم.
- ب - تأخر سن الزواج.
- د - زيادة إنجاب الأطفال.

١٠ (السبب الأبرز لصراعات الفرس مع اليونان والرومان على سواحل عمان والخليج العربي:

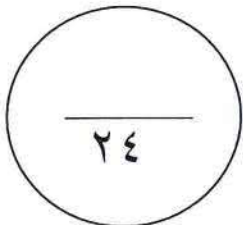
- أ- تنويع مصادر الدخل.
- ج- التبادل التجاري مع الهند .
- ب- تطبيق نظام الاحتكار التجاري .
- د- الوصول إلى موانئ الصين .

١١ (المرتكز الذي يُحدد حقوق وواجبات المواطن العماني:

- أ- المحافظة على التراث الوطني.
- ج- الأطر الدستورية والقانونية.
- ب- الوحدة الوطنية.
- د- العادات والتقاليد.

١٢ (الخدمة التي تُعد من مجالات التنمية الاجتماعية العامة بالسلطنة:

- أ- الضمان الاجتماعي.
- ج- تأهيل الأسر المحتاجة.
- ب- الكهرباء والمياه.
- د- رعاية كبار السن.



(٣)
امتحان الصف الحادي عشر
للعام الدراسي ١٤٣٥/١٤٣٤ هـ — ٢٠١٣ / ٢٠١٤ م
الدور الثاني - الفصل الدراسي الأول
المادة : الدراسات الاجتماعية " هذا وطني "

السؤال الثاني:

أ) ما سبب تكون الأشكال التضاريسية الآتية؟:

الشكل التضاريسي	سبب التكوين
سهل الباطنة	
واحات الرستاق	
خور السوادي	
كهف الهوته	

ب) وصف الإصطخري عمان بأنها "مستقلة بأهلها كثيرة النخيل والفواكه كالموز والرمان والنبق وقصبتها صحار تقع على البحر وبها متاجر وتقصدها المراكب وعمان بلاد حارة جدا وبلغني ان بمكان بعيد عن البحر وقع ثلج دقيق" من خلال الوصف استنتج ما يأتي:

١- الأحوال السياسية لعمان في تلك الفترة.

.....
.....

٢- الأنشطة الاقتصادية التي يمارسها السكان.

.....
.....

٣- طبيعة المناخ في عمان.

.....
.....

٤- البحر الذي تطل عليه قصبة عمان.

.....

(٤)

امتحان الصف الحادي عشر
للعام الدراسي ١٤٣٤/١٤٣٥ هـ — ٢٠١٣ / ٢٠١٤ م
الدور الثاني - الفصل الدراسي الأول
المادة : الدراسات الاجتماعية " هذا وطني "

تابع السؤال الثاني:

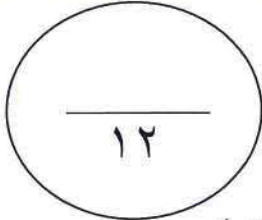
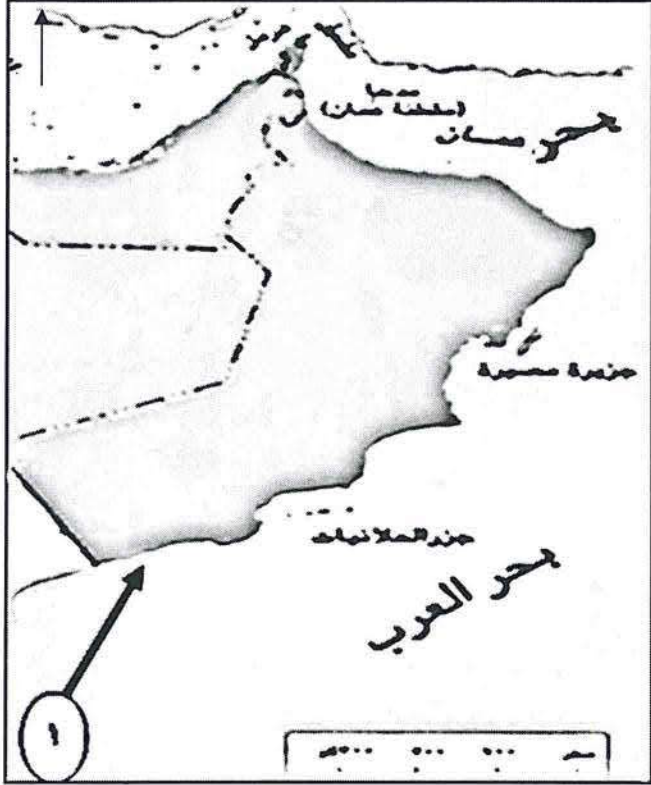
ج) امامك خريطة لسلطنة عمان ادرسها جيداً،
ثم أجب عن الاسئلة الآتية:

١- وقع المناخات التي تتأثر بها السلطنة بكتابة
الحرف على الخريطة:

- أ- شبه موسمي
ب- البحر المتوسط

٢- ما نوع الرياح المشار إليها بالرقم (١) على الخريطة؟
.....

٣- حدد على الخريطة موقع سيخة أم السميم
باستعمال الرمز (☀).



السؤال الثالث :

أ) صنف العبارات الآتية حسب نوع العامل الذي أسهم في بناء الحضارة العمانية:

العامل	العبرة
	انتشار السهول الخصبة على السواحل.
	اتسام العمانيين بروح المغامرة وتحمل الصعاب.
	وجود تجار ورجال المال من مدنات مختلفة في عمان.
	تشابه بعض الملابس العمانية مع أزياء شرقي أفريقيا.

ب) أجب عما يأتي:

١- تتبع محاولات الرومان للوصول إلى سواحل المحيط الهندي عبر اليمن وظفار.

.....
.....
.....
.....

امتحان الصف الحادي عشر
للعام الدراسي ١٤٣٥/١٤٣٤ هـ — ٢٠١٣ / ٢٠١٤ م
الدور الثاني - الفصل الدراسي الأول
المادة : الدراسات الاجتماعية " هذا وطني "

تابع السؤال الثالث :

٢- رتب المواقع الأثرية الآتية من الأقدم إلى الأحدث حسب الفترة الزمنية التي تعود إليها:

الترتيب	الموقع
	موقع الواسط
	موقع الميسر
	مستوطنة صحار
	موقع سلوت

ج- فسر العبارات الآتية:

١- يمثل موقع عمان الجغرافي بالنسبة لليابس والماء ظهيرين متناقضين للسكان.

.....

.....

.....

٢- التنوع الثري في الأعراف والعادات والتقاليد العمانية.

.....

.....

.....

السؤال الرابع :

أ (عدد اثنين لكل مما يأتي:

١ - البرامج الحكومية المعتمدة في تنظيم الاسرة.

.....

.....

٢ - أهداف العمل التطوعي بين أفراد المجتمع العماني.

.....

.....

(٦)
امتحان الصف الحادي عشر
للعام الدراسي ١٤٣٤/١٤٣٥ هـ — ٢٠١٣/٢٠١٤ م
الدور الثاني - الفصل الدراسي الأول
المادة : الدراسات الاجتماعية " هذا وطني "

تابع السؤال الرابع :

(ب) ما دلالات المؤشرات الآتية:

١- إعلان منظمة الصحة العالمية في عام ٢٠١٣ م أن السلطنة خالية من مرض التراكوما.

.....
.....
.....

٢- قيام سلطنة عمان ٢٠٠٤م بتوقيع اتفاقيات مع بعض الشركات المالكة للأقمار الاصطناعية.

.....
.....
.....

(ج) أمامك الخريطة الآتية ادرسها جيداً، ثم اجب عن الأسئلة التي تليها:




١ - ما المسطح المائي الذي يعبره الطريق البحري المشار اليه بالرقم (١)؟

.....

٢- وقع حضارة سبأ في موقعها الصحيح على الخريطة.

٣- ظلل المسطح المائي الذي قامت على ساحله مملكة أكسوم.

٤- ارسم خط التجارة البرية بين عمان وجنوب العراق باستعمال الرمز





سلطنة عُمان
وزارة التربية والتعليم



نموذج إجابة امتحان الصف الحادي عشر
للعام الدراسي ١٤٣٤/١٤٣٥ هـ - ٢٠١٣/٢٠١٤ م
الفصل الدراسي الأول - الدور الثاني

المادة: الدراسات الاجتماعية (هذا وطني في السيرة الحضارية لعمان) الدرجة الكلية: (٦٠) درجة
تنبيه: نموذج الإجابة في (٦) صفحات

أولاً: إجابة السؤال الموضوعي:

الدرجة: (٢٤) درجة		إجابة السؤال الأول		
الصفحة	الدرجة	الإجابة	البديل الصحيح	المفردة
١٥	٢	الشمال	أ	١
١٩	٢	ماركوبولو	ب	٢
٢٦	٢		ج	٣
٦١	٢	١	أ	٤
٣٥	٢	سيق	ج	٥
٣١	٢	كتبان رملية	د	٦
٤٢	٢	الشمالية	د	٧
٤٩	٢	مدافن	ب	٨
٧٣	٢	زيادة إنجاب الأطفال	د	٩
٥٧	٢	تطبيق نظام الاحتكار التجاري	ب	١٠
٩٦	٢	الأطر الدستورية والقانونية	ج	١١
٨٢	٢	الكهرباء والمياه	ب	١٢
٢٤ درجة		المجموع		

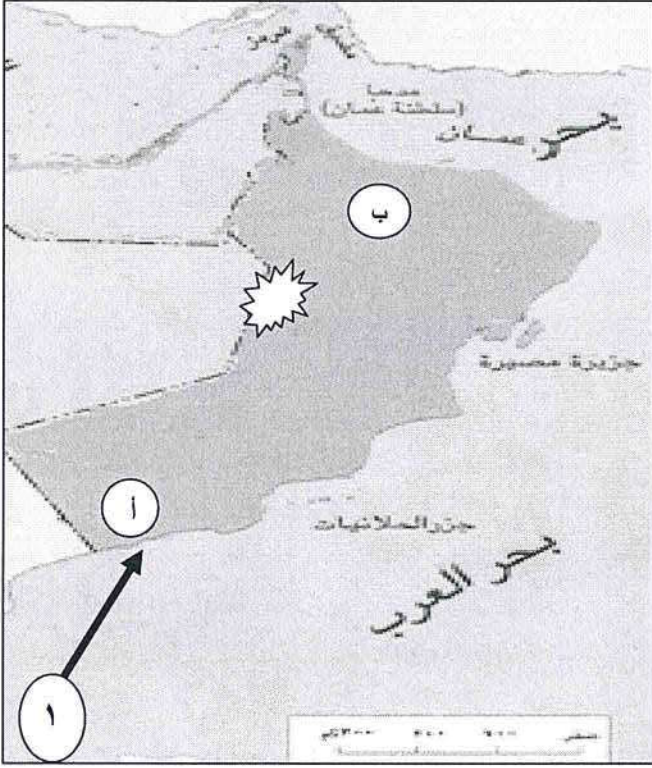
يتبع/٢

(٢)
تابع نموذج إجابة امتحان الصف الحادي عشر
للعام الدراسي ١٤٣٤/١٤٣٥ هـ - ٢٠١٣/٢٠١٤ م
الدور الثاني - الفصل الدراسي الأول
المادة: الدراسات الاجتماعية
ثانياً: إجابة الأسئلة المقالية:

إجابة السؤال الثاني		الدرجة الكلية : (١٢) درجة											
الجزئية	المفردة	الإجابة الصحيحة	الدرجة										
أ		<table><tr><th>الشكل التضاريسي</th><th>سبب التكوين</th></tr><tr><td>سهل الباطنة</td><td>إرسابات فيضية كونتها الأودية المنحدرة باتجاه بحر عمان.</td></tr><tr><td>واحات الرستاق</td><td>التعرية المائية / إرسابات أودية بالقرب من الحافات الجبلية أو في مناطق التعرجات / أحواض مغلقة لكثير من الأودية والشعاب المتفرعة عن الأودية الرئيسية. "يكتفى بواحد"</td></tr><tr><td>خور السوادي</td><td>مسابات أودية تكسر الحاجز الرملي وتلج إلى البحر.</td></tr><tr><td>كهف الهوته</td><td>بفعل الإذابة في الصخور الجيرية / نحت المياه/ التعرية المائية. "يكتفى بواحد"</td></tr></table>	الشكل التضاريسي	سبب التكوين	سهل الباطنة	إرسابات فيضية كونتها الأودية المنحدرة باتجاه بحر عمان.	واحات الرستاق	التعرية المائية / إرسابات أودية بالقرب من الحافات الجبلية أو في مناطق التعرجات / أحواض مغلقة لكثير من الأودية والشعاب المتفرعة عن الأودية الرئيسية. "يكتفى بواحد"	خور السوادي	مسابات أودية تكسر الحاجز الرملي وتلج إلى البحر.	كهف الهوته	بفعل الإذابة في الصخور الجيرية / نحت المياه/ التعرية المائية. "يكتفى بواحد"	٤
		الشكل التضاريسي	سبب التكوين										
		سهل الباطنة	إرسابات فيضية كونتها الأودية المنحدرة باتجاه بحر عمان.										
		واحات الرستاق	التعرية المائية / إرسابات أودية بالقرب من الحافات الجبلية أو في مناطق التعرجات / أحواض مغلقة لكثير من الأودية والشعاب المتفرعة عن الأودية الرئيسية. "يكتفى بواحد"										
		خور السوادي	مسابات أودية تكسر الحاجز الرملي وتلج إلى البحر.										
		كهف الهوته	بفعل الإذابة في الصخور الجيرية / نحت المياه/ التعرية المائية. "يكتفى بواحد"										
"لكل مفردة درجة"													
١	مستقلة / دوله لها سيادة.	١											
٢	الزراعة /التجارة / صيد الأسماك. "يكتفى بواحد"	١											
٣	بلاد حارة جدا.	١											
٤	بحر عمان.	١											
ب													

يتبع/٣

(٣)
تابع نموذج إجابة امتحان الصف الحادي عشر
للعام الدراسي ١٤٣٤/١٤٣٥ هـ - ٢٠١٣/٢٠١٤ م
الدور الثاني - الفصل الدراسي الأول
المادة: الدراسات الاجتماعية
ثانياً: إجابة الأسئلة المقالية:

تابع إجابة السؤال الثاني		الدرجة الكلية : (١٢) درجة	
الجزئية	المفردة	الإجابة الصحيحة	الدرجة
ج		 <p>١ - أ - الإجابة على الخريطة ب - الإجابة على الخريطة</p> <p>٢ - موسمية صيفية</p> <p>٣ - الإجابة على الخريطة</p>	<p>١</p> <p>١</p> <p>١</p> <p>١</p>
		٣٢ - ٣٤	

(٤)
تابع نموذج إجابة امتحان الصف الحادي عشر
للعام الدراسي ١٤٣٥/١٤٣٤ هـ - ٢٠١٣/٢٠١٤ م
الدور الثاني - الفصل الدراسي الأول
المادة: الدراسات الاجتماعية
تابع ثانياً: إجابة الأسئلة المقالية:-

إجابة السؤال الثالث		الدرجة الكلية: (١٢) درجة											
الجزئية	المفردة	الإجابة الصحيحة	الدرجة										
أ	١	<table><tr><th>العامل</th><th>العبرة</th></tr><tr><td>جغرافي</td><td>انتشار السهول الخصبة على السواحل.</td></tr><tr><td>بشري</td><td>اتسام العمانيين بروح المغامرة وتحمل الصعاب.</td></tr><tr><td>سياسي/ أمني</td><td>وجود تجار ورجال المال من مدنيات مختلفة في عمان.</td></tr><tr><td>حضاري</td><td>تشابه بعض الملابس العمانية مع أزياء شرقي أفريقيا.</td></tr></table>	العامل	العبرة	جغرافي	انتشار السهول الخصبة على السواحل.	بشري	اتسام العمانيين بروح المغامرة وتحمل الصعاب.	سياسي/ أمني	وجود تجار ورجال المال من مدنيات مختلفة في عمان.	حضاري	تشابه بعض الملابس العمانية مع أزياء شرقي أفريقيا.	٤
		العامل	العبرة										
		جغرافي	انتشار السهول الخصبة على السواحل.										
		بشري	اتسام العمانيين بروح المغامرة وتحمل الصعاب.										
		سياسي/ أمني	وجود تجار ورجال المال من مدنيات مختلفة في عمان.										
حضاري	تشابه بعض الملابس العمانية مع أزياء شرقي أفريقيا.												
"لكل عامل درجة"													
ب	٢	<ul style="list-style-type: none">- إنشاء محطات لهم في ظفار.- إرسال حملة برية بقيادة يوليوس.- عقد اتفاقيات مع تجار ظفار.- تأمين الطرق البحرية عبر حضرموت واليمن والحجاز وأيلة إلى ساحل الشام.	٢										
		<table><tr><th>الموقع</th><th>الترتيب</th></tr><tr><td>موقع الواسط</td><td>٢</td></tr><tr><td>موقع الميسر</td><td>١</td></tr><tr><td>مستوطنة صحار</td><td>٤</td></tr><tr><td>موقع سلوت</td><td>٣</td></tr></table>	الموقع	الترتيب	موقع الواسط	٢	موقع الميسر	١	مستوطنة صحار	٤	موقع سلوت	٣	٢
		الموقع	الترتيب										
		موقع الواسط	٢										
		موقع الميسر	١										
مستوطنة صحار	٤												
موقع سلوت	٣												
"لكل مفردة نصف درجة"													
ج	١	القرب من المسطحات المائية شكل عامل جذب للسكان ليقطنوا السهول الساحلية ويركبوا البحر أما الموقع على اليابس فشكّل عامل طرد لما يتميز به وسط عمان من تنطرف في المناخ والجفاف والتضاريس الوعرة والرمال المتحركة .	٢										
		تتنوع العادات، فهناك عادات خاصة بالمحافظة على البيئة الطبيعية وعادات خاصة بالاحتفالات الدينية والاجتماعية وعادات خاصة بالكرم والازياء والحلي والألعاب والفنون الشعبية والحرف التقليدية وعادات الاسواق المحلية وسباقات الخيل والهجن ، كما أنها تتنوع بين أهل البادية واهل الريف وسكان الجبال وسكان السواحل /التنوع بسبب طبيعة السكان والمناسبات.	٢										
		" يكتفى بواحد "											

(٥)
تابع نموذج إجابة امتحان الصف الحادي عشر
للعام الدراسي ١٤٣٤/١٤٣٥ هـ - ٢٠١٣/٢٠١٤ م
الدور الثاني - الفصل الدراسي الأول
المادة: الدراسات الاجتماعية
تابع ثانياً: إجابة الأسئلة المقالية:

إجابة السؤال الرابع				
الدرجة الكلية: (١٢) درجة				
الجزئية	المفردة	الإجابة الصحيحة	الدرجة	الصفحة
أ	١	رعاية الأمومة والطفولة / المباحدة بين الولادات / الفحص قبل الزواج . "يكتفى باثنين"	٢	٨٠
	٢	الالتزام بتعاليم الدين الإسلامي الذي يحث على البذل والعطاء / اكتساب الحسنات والأجر / تشجيع وزيادة التفاعل الاجتماعي بين أفراد المجتمع / خدمة المجتمع . "يكتفى باثنين"	٢	٧٦
ب	١	توافر خدمات صحية متطورة ومجانية في مختلف مناطق السلطنة / توسع برامج نشر الثقافة الصحية / تنويع خدمات التنمية الاجتماعية . " يكتفى بواحد أو ما يفيد المعنى"	٢	٨٠
	٢	حرص السلطنة على تقديم خدمات الاتصالات للمواطنين / تنويع التنمية الاجتماعية الشاملة للمواطنين. " يكتفى بواحد أو ما يفيد المعنى"	٢	٨١

تابع نموذج إجابة امتحان الصف الحادي عشر
للعام الدراسي ١٤٣٤/١٤٣٥ هـ - ٢٠١٣/٢٠١٤ م
الدور الثاني - الفصل الدراسي الأول
المادة: الدراسات الاجتماعية
أسئلة المقالية:

الدرجة الكلية (١٢) درجة

تابع إجابة السؤال الرابع

ज


مجموع الدرجات ٦٠ درجة

نهاية نموذج الإجابة.

نموذج إجابة امتحان الصف الحادي عشر
 للعام الدراسي ١٤٣٥/١٤٣٦ هـ - ٢٠١٤/٢٠١٥ م
 الدور الأول - الفصل الدراسي الأول

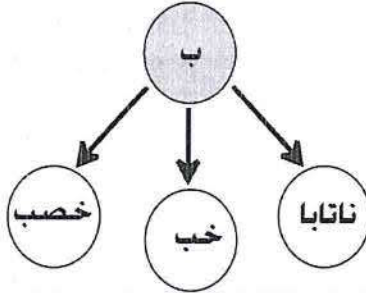
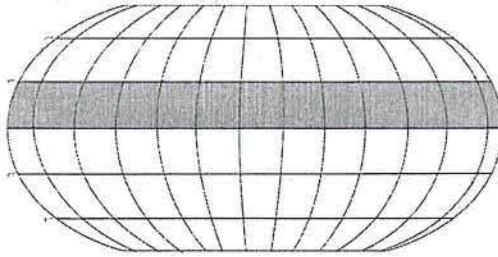

المادة: الدراسات الاجتماعية (هذا وطني في السيرة الحضارية لعمان) الدرجة الكلية: (٦٠) درجة
 تنبيه: نموذج الإجابة في (٧) صفحات

أولاً: إجابة السؤال الموضوعي:

إجابة السؤال الأول		الدرجة: (٢٤) درجة		
المفردة	البديل الصحيح	الإجابة	الدرجة	الصفحة
١	ب	الحجري الحديث	٢	٤٧
٢	أ		٢	٤٢
٣	ب	وزارة التنمية الاجتماعية	٢	٨٢
٤	أ	<div style="border: 1px solid black; padding: 5px;"> <div style="display: flex; align-items: center;"> <div style="width: 20px; height: 20px; background-color: gray; margin-right: 5px;"></div> <div>إقليم المناخ شبة الصحراوي</div> </div> <div style="display: flex; align-items: center;"> <div style="width: 20px; height: 20px; background: repeating-linear-gradient(45deg, transparent, transparent 2px, black 2px, black 4px); margin-right: 5px;"></div> <div>إقليم مناخ البحر المتوسط</div> </div> <div style="display: flex; align-items: center;"> <div style="width: 20px; height: 20px; background: repeating-linear-gradient(-45deg, transparent, transparent 2px, black 2px, black 4px); margin-right: 5px;"></div> <div>إقليم المناخ الصحراوي</div> </div> <div style="display: flex; align-items: center;"> <div style="width: 20px; height: 20px; background: repeating-linear-gradient(90deg, transparent, transparent 2px, black 2px, black 4px); margin-right: 5px;"></div> <div>إقليم المناخ الموسمي</div> </div> </div> <p style="text-align: center;">(أ)</p>	٢	٣٤

(٢)
تابع نموذج إجابة امتحان الصف الحادي عشر
للعام الدراسي ١٤٣٥/١٤٣٦ هـ - ٢٠١٤/٢٠١٥ م
الدور الأول - الفصل الدراسي الأول
المادة: الدراسات الاجتماعية (هذا وطني)

تابع: إجابة السؤال الموضوعي:

إجابة السؤال الأول		الدرجة: (٢٤) درجة	
المفردة	البديل الصحيح	الإجابة	الدرجة
٥	ج	سواحل أفريقيا الشرقية سواحل الهند سواحل بلاد فارس	٢
٦	ج	خمسون يوما	٢
٧	د	١٩٩٢	٢
٨	أ	(٢، ١)	٢
٩	ب		٢
١٠	د		٢
١١	أ	ميلوفا - دلمون - مجان .	٢
١٢	د		٢
المجموع		٢٤ درجة	

تابع نموذج إجابة امتحان الصف الحادي عشر
للعام الدراسي ١٤٣٥/١٤٣٦ هـ - ٢٠١٤/٢٠١٥ م
الدور الأول - الفصل الدراسي الأول
المادة: الدراسات الاجتماعية (هذا وطني)



ثانياً: إجابة الأسئلة المقالية:

إجابة السؤال الثاني				
الدرجة الكلية : (١٢) درجة				
الجزئية	المفردة	الإجابة الصحيحة	الدرجة	الصفحة
أ	١	١ - المنخفضات الجوية والكتل الهوائية الباردة التي تعبر شرق البحر المتوسط وجنوب ايران وتصل لشمال السلطنة. ٢ - هبوب الرياح الموسمية الصيفية على جنوب السلطنة. ٣ - المرتفعات التي ترتفع فوق مستوى سطح البحر . ٤ - القرب من المسطحات المائية . يكتفى باثنين لكل درجة	٢	٣٤
	٢	- مسقا - وبار - سفار - ظفار يكتفى باثنين لكل درجة	٢	٤٢ ٤٣
ب	١	- موقع عمان الاستراتيجي. - وقوع السلطنة على مسطحات مائية عدة مثل الخليج العربي وبحر عمان وبحر العرب ومضيق هرمز . - علاقات عمان الحضارية البحرية الكبيرة مع ما جاورها من حضارات مثل الهند والصين وشرق أفريقيا ومصر وحضارات شبه الجزيرة العربية. - خبرة العمانيون في الملاحة وبناء السفن والأساطيل . - انتشار الموانئ على طول السواحل العمانية . - اتساع عمان وتكوين إمبراطورية مترامية الأطراف. - نقطة اتصال بين الشرق والغرب. يكتفى بتفسير واحد	٢	٢٢ ٢٣
	٢	- ارتباطها بتعاليم الشريعة الإسلامية . - ذات فائدة اقتصادية ومعنوية للموقف وللموقوف له والمجتمع. - تعد صدقة جارية للموقف. ملاحظة : إذا ذكر الطالب أي فائدة مرجوة من أوجه الوقف المختلفة تعد إجابته صحيحة ويعطى الدرجة كاملة. يكتفى بتفسير واحد	٢	٧٥

تابع نموذج إجابة امتحان الصف الحادي عشر
للعام الدراسي ١٤٣٥/١٤٣٦ هـ - ٢٠١٤/٢٠١٥ م
الدور الأول - الفصل الدراسي الأول
المادة: الدراسات الاجتماعية (هذا وطني)
تابع ثانياً: إجابة الأسئلة المقالية:

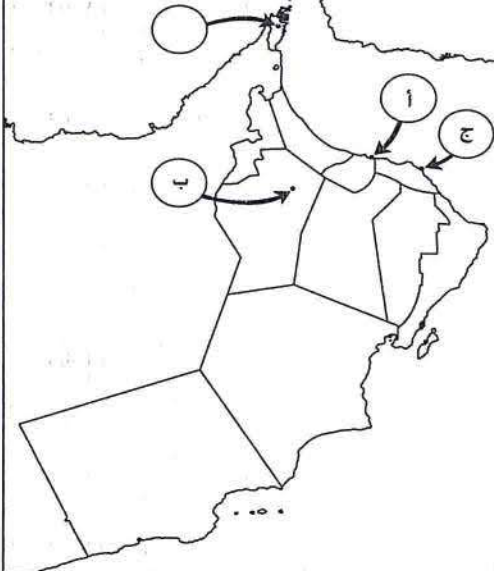


تابع إجابة السؤال الثاني					
ج	١	جزر تابعة لشبه جزيرة	جزر تابعة لجزر الحلايبات	٣٣	
		مسندم	القبليّة - شنيص		
٢	١	<p>- بالنسبة للموقع ذكر أن عمان اسم كورة عربية أو إقليم عربي على ساحل بحر اليمن والهند / عمان في الإقليم الأول طولها (٧٤) درجة و (٣٠) دقيقة، وعرضها (١٩) درجة و (٤٥) دقيقة / تقع شرقي بلاد الهجر وتضم بلدانا كثيرة وهي ذات نخيل وزروع / وصف الموقع الفلكي لعمان أو وصف الموقع حسب خطوط الطول ودوائر العرض / وصف الموقع الجغرافي لعمان / ذكر بأنها تطل على بحر اليمن والهند.</p> <p>يكتفى بإجابة واحدة</p>			١٨
		<p>- بالنسبة لوصف مدنها ذكر مسقط بأنها تقع على ساحل البحر / ذكر قلعات وأشار أنها تقع على ساحل البحر وإليها ترفأ سفن الهند وهي مدينة ليست بالقديمة في العمارة ، وهي من أشهر مدن عمان وأحسنها ، عامرة وأهلة بالسكان ، فرضت بلاد عمان على المحيط الهندي وبحر العرب / ذكر بأن بعض مدن عمان مثل مسقط وقلعات تقع على البحر.</p> <p>يكتفى بإجابة واحدة</p>			
<p>ملاحظة : يعطى الطالب درجتين إذا ذكر بأن <u>عمان ومدنها</u> تقع على ساحل البحر أو يحدها البحر من الشرق ومن الغرب بلاد الهجر أو تقع على ساحل بحر اليمن والهند.</p>					

يتبع/٥

تابع نموذج إجابة امتحان الصف الحادي عشر
للعام الدراسي ١٤٣٥/١٤٣٦ هـ - ٢٠١٤/٢٠١٥ م
الدور الأول - الفصل الدراسي الأول
المادة: الدراسات الاجتماعية (هذا وطني)
تابع ثانياً: إجابة الأسئلة المقالية:



إجابة السؤال الثالث				
الدرجة الكلية: (١٢) درجة				
الصفحة	الدرجة	الإجابة الصحيحة	المفردة	الجزئية
٣٢ ١٨ ٢٠	ثلاث درجات لكل درجة.	 <p>ملاحظة: إذا كتب الطالب الإجابة الصحيحة على الدائرة بدلا من الرموز يعطى الدرجة.</p>	١ - أ	
١٩	١	ابن بطوطة ملاحظة: إذا كتب الطالب الحميري تعد الإجابة صحيحة.	٢	أ
٥٤	١	رحلة الملكة حنتشبسوت إلى ظفار / رحلة سفينة فرعونية إلى ظفار أو بلاد بونت.	١	ب
٥٥	١	٤٠٠ ق.م	٢	

يتبع/٦

تابع نموذج إجابة امتحان الصف الحادي عشر
للعام الدراسي ١٤٣٥/١٤٣٦ هـ - ٢٠١٤/٢٠١٥ م
الدور الأول - الفصل الدراسي الأول
المادة: الدراسات الاجتماعية



تابع ثانياً: إجابة الأسئلة المقالية:

تابع إجابة السؤال الثالث:				
الجزئية	المفردة	الإجابة الصحيحة	الدرجة	الصفحة
ج (١)		أ- وضع تشريعات وقوانين تتعلق بأسعار السلع وأمن التجار وتحديد الموازين والمكاييل وراحة التجار والوكلاء وحرية التنقل وضمانات للصكوك والصفقات. يكتفى بإجابة واحدة	١	٥٤
		ب-نقل العديد من المحاصيل الزراعية / نقل المؤثرات الفنية الخاصة بالنقوش والرسومات على الأواني والأختام /تشابه أختام السند وجوجيرات مع أختام بلاد سومروبايل / ظهور الفنون والتمثيل الهندية من الأحجار والعاج في منازل أهل العراق/ظهور أدوات منزلية وحلي نسائية تتشابه في صناعتها بين الطرفين / التشابه في استعمال الطين ونظام الغرف والحجرات لبناء المنازل . يكتفى بإجابة واحدة	١	٥٣
		ج- يقوم بعملية التفريغ للبضائع / ضمان تسليم البضائع ودفع القيمة / التوزيع للبضائع في المدن المختلفة / مرافقة التجار/ الإشراف على عمليات الشحن / ترتيب الصفقات التجارية . يكتفى بإجابة واحدة	١	٥٣
ج (٢)	<div> <div>التنمية الاجتماعية العامة</div> <div>رعاية الأمومة والطفولة / الفحص قبل الزواج / المباعدة بين الولادات.</div> </div> <div> <div>التنمية الاجتماعية الخاصة</div> <div>نظام الأسرة البديلة / الضمان الاجتماعي / رعاية المسنين.</div> </div>		٣ درجات لكل نصف.	٨٠-٨٢

يتبع/٧

تابع نموذج إجابة امتحان الصف الحادي عشر
للعام الدراسي ١٤٣٥/١٤٣٦ هـ - ٢٠١٤/٢٠١٥ م

الدور الأول - الفصل الدراسي الأول
المادة: الدراسات الاجتماعية

تابع ثانياً: إجابة الأسئلة المقالية:

إجابة السؤال الرابع:		الدرجة الكلية : (١٢) درجة	
أ	١	الأخوار المؤقتة / الموسمية	٣٢
	٢	المسافة	٣٠
	٣	البرزة	٧٢
ب	١	هجرة العديد من الأسر إلى مناطق أخرى / أصبح أفراد الأسرة الواحدة يعملون في مهن مختلفة / تأخر سن الزواج / محاولة تنظيم الأسرة / المباحة بين الولادات / التطلع إلى مستوى معيشي جيد / ضمان الحصول على الرعاية الصحية والتعليمية والخدمية المناسبة. يكتفى بتعليل واحد.	٧٣
ب - ٢			٤ لكل درجة ٥٠ - ٤٨
ج	١	لغة المجتمع التي طبعته بطابعها وثقافتها وآدابها وطرق التفكير بها / وهي وعاء الثقافة العمانية بما تحويه من أشعار وقصص وتاريخ ومنجزات حضارية متنوعة. يكتفى بإجابة واحدة وما يفيد المعنى	٦٨
	٢	ميدان العاديات	٧٢

انتهى نموذج الإجابة



امتحان الصف الحادي عشر
للعام الدراسي ١٤٣٦/١٤٣٧ هـ - ٢٠١٥/٢٠١٦ م
الدور الأول - الفصل الدراسي الأول

- المادة: الدراسات الاجتماعية (هذا وطني في السيرة الحضارية لعمان) ● عدد صفحات أسئلة الامتحان: (٨).
- زمن الإجابة: ساعتان.
- الإجابة في الورقة نفسها.

اسم الطالب			الصف
المدرسة			

السؤال	الدرجة بالأرقام (بالأحمر)		الدرجة بالحروف (بالأحمر)	(التوقيع بالاسم)	
	آحاد	عشرات		المصحح (بالأحمر)	المدقق (بالأخضر)
١					
٢					
٣					
٤					
المجموع				جمعه (بالأحمر)	مراجعة الجمع والتشطيب (بالأزرق)
المجموع الكلي	٦٠				

امتحان الصف الحادي عشر
للعام الدراسي ١٤٣٦/١٤٣٧ هـ - ٢٠١٥/٢٠١٦ م
الدور الأول - الفصل الدراسي الأول

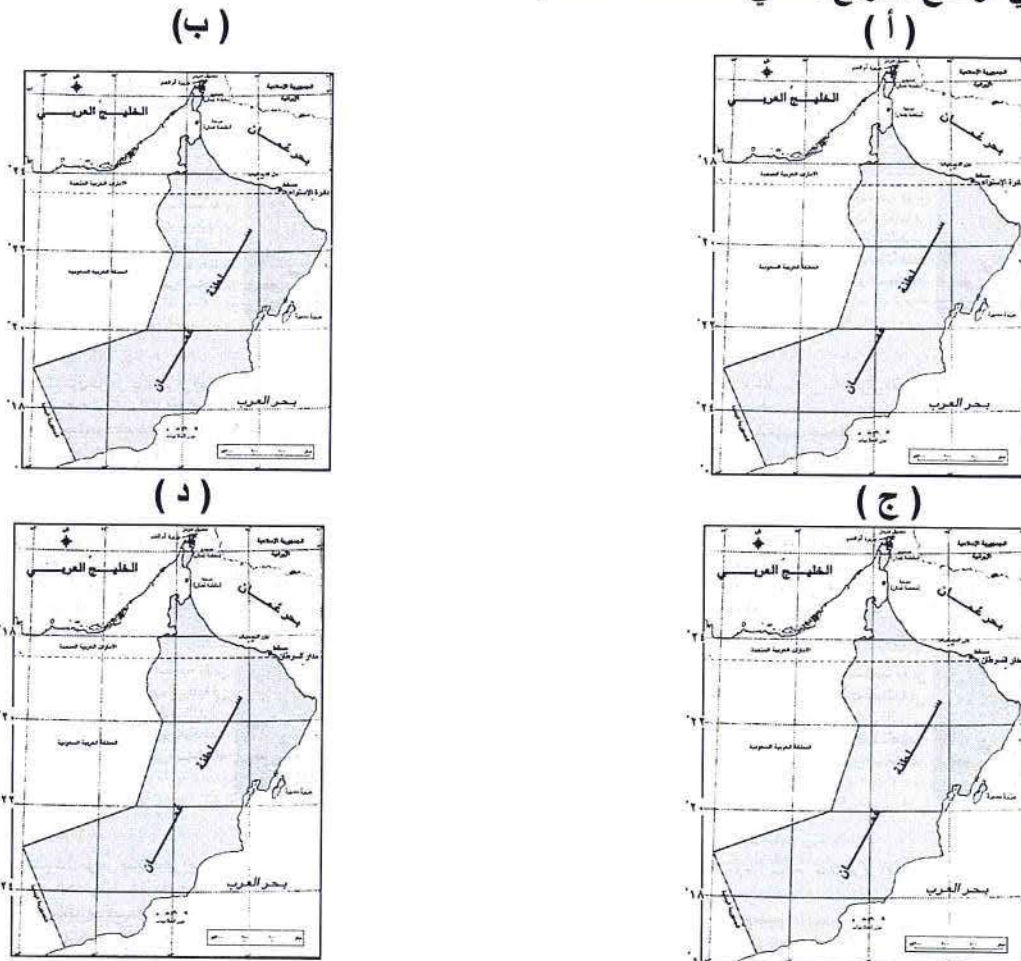
- المادة: الدراسات الاجتماعية (هذا وطني في السيرة الحضارية لعمان).
- زمن الإجابة: ساعتان .
- الأسئلة في (٨) صفحات.
- الإجابة في الورقة نفسها.

أجب عن جميع الأسئلة الآتية
السؤال الأول : ضع دائرة حول رمز الإجابة الصحيحة من بين البدائل المعطاة :

(١) الكتاب الذي وصف فيه ابن الفقيه الهمداني (٩٧٥م) أن أرض عُمان هي صفوة الأرض :

- أ - مسالك الممالك ب - كتاب البلدان ج - صورة الأرض د - أحسن التقاسيم

(٢) الخريطة التي توضح الموقع الفلكي لمحافظة مسقط :



(٣) المناخ السائد في منطقة الجبل الأخضر بسلطنة عُمان :

- أ - الموسمي ب - الصحراوي ج - شبه الصحراوي د - البحر المتوسط

(٢)

تابع :امتحان الصف الحادي عشر
للعام الدراسي ١٤٣٦/١٤٣٧ هـ — ٢٠١٥ / ٢٠١٦ م
الدور الأول – الفصل الدراسي الأول
المادة : الدراسات الاجتماعية (هذا وطني)

تابع السؤال الأول: ضع دائرة حول رمز الإجابة الصحيحة من بين البدائل المعطاة :

٤ (الأرقام التي تمثل الأخوار الدائمة حسب الشكل الموضح :

١	خور رأس الحد
٢	خور روري
٣	خور وادي الجزي
٤	خور أرزات

أ - (٢ ، ١) ب - (٣ ، ٢)

ج - (٤ ، ١) ج - (٤ ، ٣)

٥ (الجهة التي تشترك فيها سلطنة عُمان في حدودها الجغرافية مع الجمهورية اليمنية :

أ - الشمالية ب - الشرقية ج - الجنوبية د - الغربية

٦ (جميع ما يلي يُعد من مرتكزات المجتمع العُماني ماعدا :

أ - الدين الإسلامي ب - اللغة العربية ج - الوحدة الوطنية د - المركز الاجتماعي

٧ (التصنيف الصحيح للمواقع الأثرية القديمة في سلطنة عُمان من الأقدم إلى الأحدث :

د
الميسر
خور روري
الواسط

ج
الميسر
الواسط
خور روري

ب
خور روري
الميسر
الواسط

أ
خور روري
الواسط
الميسر

٨ (الملك الذي سجلت النصوص الفرعونية أول رحلة في عهده بين مصر وظفار عام ٢٥٩٠ ق . م :

أ - رمسيس الثالث ب - خوفو الأكبر ج - حتشبسوت د - توت عنخ آمون

٩ (الجزء الذي يشغله إقليم عُمان من شبه الجزيرة العربية :

أ - الجنوب الغربي ب - الجنوب الشرقي ج - الشمال الغربي د - الشمال الشرقي

١٠ (اللبنة الأساسية في بناء المجتمع العُماني :

أ - الأسرة ب - المسجد ج - المدرسة د - الجامعة

١١ (العام الميلادي الذي نشأت فيه مجموعات دعم صحة المجتمع العُماني في سلطنة عُمان :

أ - ١٩٩١ م ب - ١٩٩٢ م ج - ١٩٩٣ م د - ١٩٩٤ م

تابع : امتحان الصف الحادي عشر
للعام الدراسي ١٤٣٦/١٤٣٧ هـ — ٢٠١٥ / ٢٠١٦ م
الدور الأول – الفصل الدراسي الأول
المادة : الدراسات الاجتماعية (هذا وطني)

تابع السؤال الأول: ضع دائرة حول رمز الإجابة الصحيحة من بين البدائل المعطاة :

١٢ (الجدول الذي يضم أهم مجالات التنمية الاجتماعية الخاصة :

أ	ب	ج	د
الضمان الاجتماعي	الصحة	تأهيل ذوي الدخل المحدود	التعليم
التعليم	المياه	الضمان الاجتماعي	الإعلام
الإعلام	رعاية المسنين	رعاية المسنين	المياه

السؤال الثاني :

أ (استبدل المسميات والأوصاف القديمة الآتية لمدن عُمان كما وصفها الرحالون بالأسماء الحديثة.

- أرض السر ← (.....)

- اسكبير ← (.....)

- قسبة عُمان ← (.....)

ب (فسّر العبارات الآتية:

١ - تُعد سلطنة عُمان محط أنظار الكثير من القوى الاقتصادية العالمية منذُ القدم حتى الوقت الحاضر.

.....
.....
.....
.....

٢ - يتسم المجتمع العُماني بأنماط وقواسم مشتركة في سلوكه الاجتماعي.

.....
.....
.....
.....

(٤)
تابع :امتحان الصف الحادي عشر
للعام الدراسي ١٤٣٦/١٤٣٧ هـ — ٢٠١٥ / ٢٠١٦ م
الدور الأول – الفصل الدراسي الأول
المادة : الدراسات الاجتماعية (هذا وطني)

تابع السؤال الثاني :

(ج)
١ - دقق النظر في الصورتين اللتين أمامك، ثم قارن بينهما وفق الجدول لآتي:
(١) (٢)



الصورة	الصورة رقم (١)	الصورة رقم (٢)
نوع المكتشف (اسمه)
اسم المستوطنة الأثرية التي ينتمي إليها
تاريخ المستوطنة

٢ - ما المقصود بكل من :

أ - الإيلاف :

.....
.....
.....
.....

ب - موسم الحصاد :

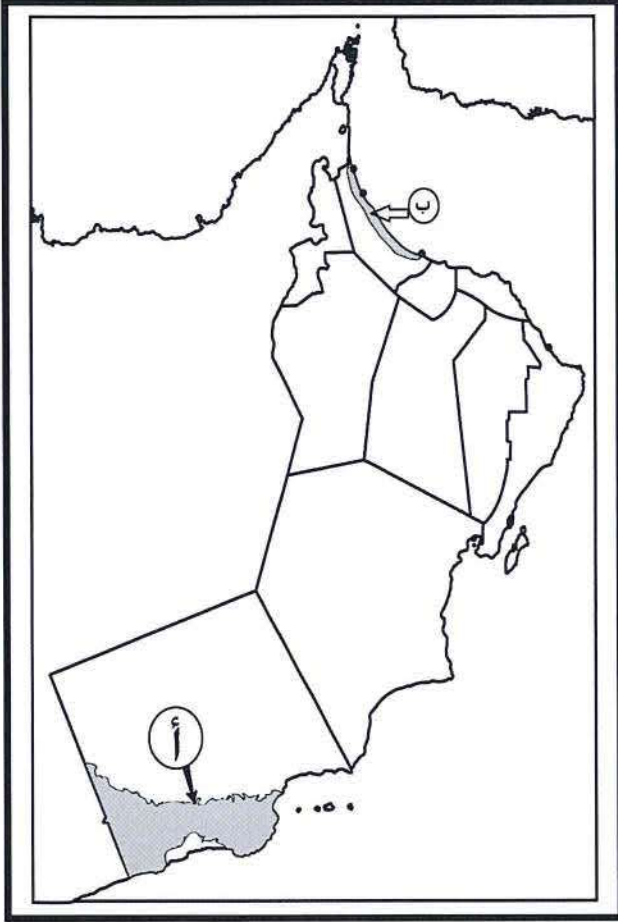
.....
.....
.....
.....

(٥)

تابع :امتحان الصف الحادي عشر
للعام الدراسي ١٤٣٦/١٤٣٧ هـ — ٢٠١٥ / ٢٠١٦ م
الدور الأول – الفصل الدراسي الأول
المادة : الدراسات الاجتماعية (هذا وطني)

السؤال الثالث:

أ - أمامك خريطة سلطنة عُمان ادرسها جيداً، ثم أجب عن الأسئلة التي تليها:



١- الجزء المظلل من الخريطة والمشار إليه بالرمز (ب)
يدل على

٢- السلسلة الجبلية التي يشير إليها الرمز (أ)
.....

٣- وقع على الخريطة اسم المدينة التي اتخذها الفرس
مركزاً لهم في عصر الدولة الساسانية.

٤- ظل على الخريطة المحافظة التي ينتمي لها موقع
"سلوت" الأثري.

ب - دلل لما يأتي:

١ - " إصرار العُثمانيين على الاستفادة من بيئتهم الجبلية وتطويع مكوناتها لحياتهم "

.....
.....
.....
.....

٢ - " جهود وزارة التنمية الاجتماعية في رعاية ذوي الإعاقة "

.....
.....
.....
.....


(٦)

تابع :امتحان الصف الحادي عشر
للعام الدراسي ١٤٣٦/١٤٣٧ هـ — ٢٠١٥ / ٢٠١٦ م
الدور الأول - الفصل الدراسي الأول
المادة : الدراسات الاجتماعية (هذا وطني)

تابع السؤال الثالث:

(ج)

١ - انظر إلى الصورة التي أمامك ، ثم أجب عن الأسئلة التي تليها:



أ - استخرج من خلال الصورة مكونات الزي العُماني.

.....
.....
.....

ب - استنتج سمتين من سمات الشخصية العُمانية.

.....
.....
.....
.....

٢- من خلال دراستك لموضوع التفاعل بين الفرد والمجتمع، صنف العبارات الآتية في الجدول الذي يلي:
(العمل التطوعي - الحصاد - خدمة المجتمع - التبرع بالدم - الوقف - الشورى)

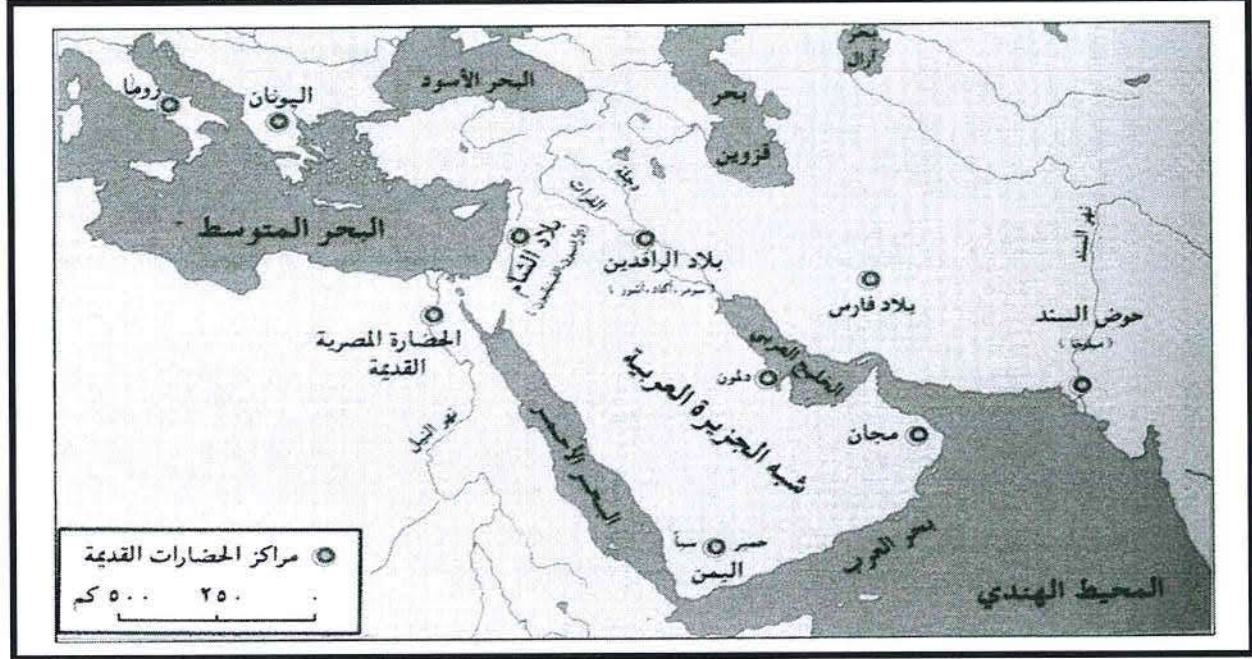
التفاعل المعنوي	التفاعل المادي
.....
.....
.....

(٧)

تابع :امتحان الصف الحادي عشر
للعام الدراسي ١٤٣٦/١٤٣٧ هـ — ٢٠١٥ / ٢٠١٦ م
الدور الأول – الفصل الدراسي الأول
المادة : الدراسات الاجتماعية (هذا وطني)

السؤال الرابع :

أ (١ - استعن بخريطة الحضارات القديمة التي أمامك ، ثم أكمل الجدول الذي يليها:



اسم الحضارة	الدولة التي تقع فيها حالياً	أهم مظاهر التواصل والاتصال مع حضارة عُمان
١ -	مصر	٢ -
٣ -	البحرين	٤ -
٥ -	ايران	٦ -

٢ - " كانت لعُمان إسهامات عديدة في نقل مؤثرات فنية وحضارية بين الطرفين الهندي والعراقي عبر رحلات سفنها غير المحاصيل الزراعية" في ضوء العبارة السابقة أجب عن ما يأتي:
- اذكر اثنين من هذه المؤثرات الفنية.

.....

.....

.....

.....

تابع :امتحان الصف الحادي عشر
للعام الدراسي ١٤٣٦/١٤٣٧ هـ — ٢٠١٥ / ٢٠١٦ م
الدور الأول – الفصل الدراسي الأول
المادة : الدراسات الاجتماعية (هذا وطني)

تابع السؤال الرابع :

ب (علل العبارات الآتية:

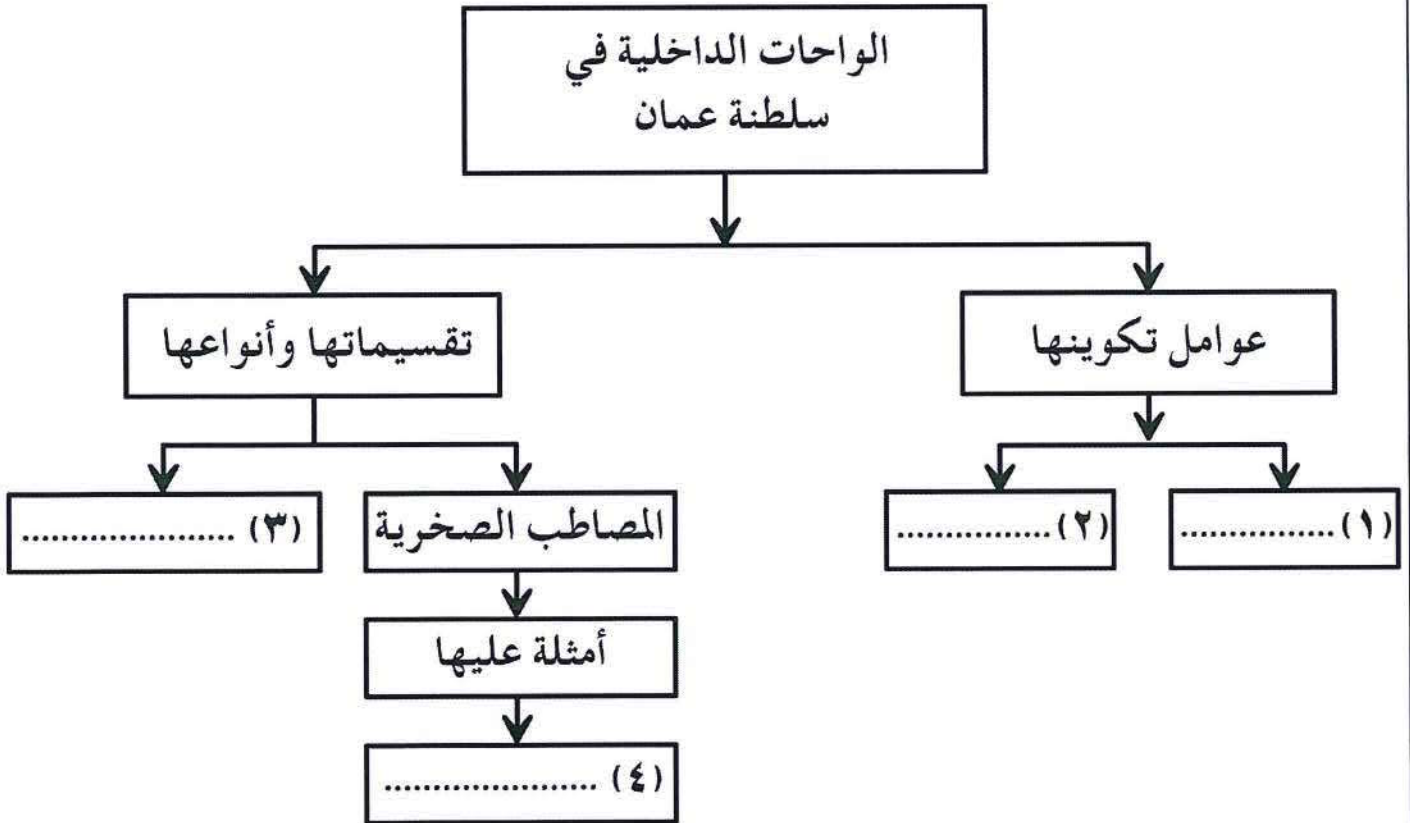
١- " تتأثر سلطنة عُمان بنسيم البر والبحر، ونسيم الجبل والوادي"

.....
.....
.....
.....

٢ - " ازدهار موانيء عُمان الشمالية زمن السومريين "

.....
.....
.....

ج (تأمل المخطط الذي أمامك وادرسه جيداً، ثم قُم بتكملة الفراغات بداخله بما يناسب:

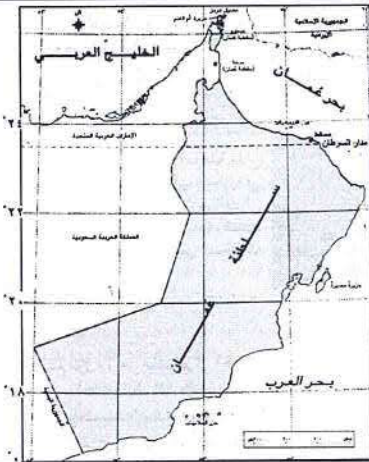


انتهت الأسئلة مع تمنياتنا لكم بالتوفيق والنجاح

نموذج إجابة امتحان الصف الحادي عشر
للعام الدراسي ١٤٣٦/١٤٣٧ هـ — ٢٠١٥/٢٠١٦ م
الدور الأول — الفصل الدراسي الأول

المادة: الدراسات الاجتماعية (هذا وطني في السيرة الحضارية لعمان)
الدرجة الكلية: (٦٠) درجة.
تتبعه: نموذج الإجابة في (٥) صفحات

أولاً: إجابة السؤال الموضوعي (٢٤ درجة):-

المفردة	الرمز	الإجابة	الدرجة	الصفحة
١	ب	كتاب البلدان	٢	١٧
٢	ج		٢	٢٤
٣	د	البحر المتوسط	٢	٣٤
٤	أ	(١ ، ٢) خور رأس الحد وخور روري	٢	٣٢
٥	ج	الجنوبية	٢	٢١
٦	د	المركز الاجتماعي	٢	٦٩
٧	ج	ج الميسر الواسط خور روري	٢	٤٨ ٤٩
٨	ب	خوفوا الأكبر	٢	٥٤
٩	ب	الجنوب الشرقي	٢	٤٣
١٠	أ	الأسرة	٢	٧٣
١١	ب	١٩٩٢م	٢	٧٧
١٢	ج	تأهيل ذوي الدخل المحدود الضمان الاجتماعي رعاية المسنين	٢	٨٢

(١)
تابع: نموذج إجابة امتحان الصف الحادي عشر
العام الدراسي ١٤٣٦/١٤٣٧ هـ — ٢٠١٥ / ٢٠١٦ م
الدور الأول - الفصل الدراسي الأول
الدراسات الاجتماعية (هذا وطني)



إجابة السؤال الثاني : (١٢) درجة :

الصفحة	الدرجة	الإجابة الصحيحة	المفردة	الجزئية												
١٨ ١٩ ١٧	١ ١ ١	- عبري - الشحر (ظفار) - صحار		أ												
٢٣	٢	- وقوع السلطنة على الخليج العربي وبحر عمان وبحر العرب. - الإشراف على مضيق هرمز بوابة الخليج وقلب العالم النابض بالنفط، والممر ذاته كان ولازال معبر التجارة الدولية . - تعد السلطنة بموقعها محطة استراتيجية للعبور (الترانزيت) إلى الهند ودول جنوب شرق آسيا لجميع السفن القادمة من أوروبا وأفريقيا حتى سفن دول أمريكا الشمالية والجنوبية . (يكتفى بذكر واحدة ، وبمايفيد المعنى)	١	ب												
٦٧	٢	وذلك بسبب تشابه وتقارب: - الظروف المكانية. - الظروف الاجتماعية. - الظروف الثقافية. - الظروف الاقتصادية العمانية. (يكتفى بذكر اثنين لكل درجة، وبمايفيد المعنى)	٢													
٤٨ ٤٩	٣ درجات لكل مفردة نصف درجة	(٢)  (١)  <table><tr><th>الصورة</th><th>رقم (١)</th><th>رقم (٢)</th></tr><tr><td>نوع المكتشف (اسمه)</td><td>قلادة من الحجر والأصداف</td><td>مدافن خلايا النحل</td></tr><tr><td>اسم المستوطنة الأثرية التي ينتمي إليها</td><td>رأس الحمراء</td><td>بات</td></tr><tr><td>تاريخ المستوطنة</td><td>الآلاف الخامسة ق.م</td><td>الآلاف الثالثة ق.م</td></tr></table>	الصورة	رقم (١)	رقم (٢)	نوع المكتشف (اسمه)	قلادة من الحجر والأصداف	مدافن خلايا النحل	اسم المستوطنة الأثرية التي ينتمي إليها	رأس الحمراء	بات	تاريخ المستوطنة	الآلاف الخامسة ق.م	الآلاف الثالثة ق.م	١	ج
الصورة	رقم (١)	رقم (٢)														
نوع المكتشف (اسمه)	قلادة من الحجر والأصداف	مدافن خلايا النحل														
اسم المستوطنة الأثرية التي ينتمي إليها	رأس الحمراء	بات														
تاريخ المستوطنة	الآلاف الخامسة ق.م	الآلاف الثالثة ق.م														

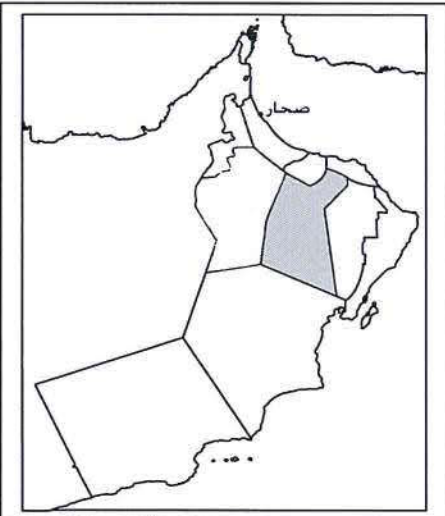
(١٢)

تابع: نموذج إجابة امتحان الصف الحادي عشر
 للعام الدراسي ١٤٣٦/١٤٣٧ هـ — ٢٠١٥ / ٢٠١٦ م
 الدور الأول - الفصل الدراسي الأول
 الدراسات الاجتماعية (هذا وطني)
 تابع إجابة السؤال الثاني : (١٢) درجة :



الصفحة	الدرجة	الإجابة الصحيحة	المفردة	الجزئية
٥١	١	أ - الإيلاف: هو نظام ألفته القبائل والمراكز العربية قبل الإسلام ، في عمليات ونظم الاتصال التجاري بينها.	٢	ج
٧٥	١	ب - موسم الحصاد : تعاون أفراد المجتمع رجالاً ونساء وأطفالاً، ويساعد بعضهم بعضاً في العمليات المختلفة التي يتطلبها حصاد التمور وحفظها وتخزينها ، وتكرر هذه العملية في مواسم حصاد القمح واللبنان والصيد. (بما يفيد المعنى)		

إجابة السؤال الثالث : (١٢) درجة :

الصفحة	الدرجة	الإجابة الصحيحة	المفردة	الجزئية
٢٧	١	سهل الباطنة.	١	أ
٢٧	١	سلسلة جبال ظفار.	٢	
٥٨	١	 <p>(ملاحظة ضرورة تحديد صحار على الخريطة في موقعها الصحيح)</p>	٣	
٥٠	١		٤	



(٤)
تابع: نموذج إجابة امتحان الصف الحادي عشر
الدراسي ١٤٣٦/١٤٣٧ هـ — ٢٠١٥ / ٢٠١٦ م
الدور الأول - الفصل الدراسي الأول
الدراسات الاجتماعية (هذا وطني)
تابع إجابة السؤال الثالث : (١٢) درجة :

الجزئية	المفردة	الإجابة الصحيحة	الدرجة	الصفحة							
ب	١	- المدرجات الزراعية في الجبل الأخضر. - البيوت الجبلية المنتشرة في جبال الحجر وجبال مسندم وجبال ظفار. - الأفلاج الغيلية أو الأفلاج العينية وهي تسقي السفوح الجبلية ، أو الأفلاج الداودية وهي تسقي السهول. - الطرق الممهدة وهي تخترق سفوح الجبال. <u>(يكتفى بذكر واحدة ، وبما يفيد المعنى)</u>	١,٥	٢٨							
	٢	- توفير الأجهزة التعويضية اللازمة لهم حسب ظروف كل حالة. - دعم برامج رياضية للمعوقين وتوفير التسهيلات لهم. - تأمين فرص عمل . - برنامج التأهيل المجتمعي . - مركز الوفاء لتأهيل الأطفال المعوقين <u>(يكتفى بذكر واحدة ، وبما يفيد المعنى)</u>	١,٥	٨٢							
ج	١	أ - المصر (العمامة)- الخنجر- السيف - الدشداشة - البشت <u>(يكتفى بذكر واحد)</u>	١	٧٠							
		ب - احترام خصوصية المجتمع - التمسك بالمبادئ والقيم والعادات - وحدة اللباس (الوحدة الوطنية) - بروز الشخصية العمانية <u>(يكتفى باثنتين بما يفيد المعنى)</u>	١ لكل مفردة نصف درجة	٧٠ ٧١							
	٢	<table><tr><th>التفاعل المعنوي</th><th>التفاعل المادي</th></tr><tr><td>العمل التطوعي</td><td>الحصاد</td></tr><tr><td>خدمة المجتمع</td><td>الوقف</td></tr><tr><td>الشورى</td><td>التبرع بالدم</td></tr></table> <p>(لا يشترط الترتيب في فراغات التفاعل الاجتماعي وأيضا في فراغات التفاعل المادي)</p>	التفاعل المعنوي	التفاعل المادي	العمل التطوعي	الحصاد	خدمة المجتمع	الوقف	الشورى	التبرع بالدم	٣ درجات لكل مفردة نصف درجة
التفاعل المعنوي	التفاعل المادي										
العمل التطوعي	الحصاد										
خدمة المجتمع	الوقف										
الشورى	التبرع بالدم										



(٥)
تابع: نموذج إجابة امتحان الصف الحادي عشر
الدراسي ١٤٣٦/١٤٣٧ هـ — ٢٠١٥ / ٢٠١٦ م
الدور الأول - الفصل الدراسي الأول
الدراسات الاجتماعية (هذا وطني)
إجابة السؤال الرابع : (١٢) درجة :

الجزئية	المفردة	الإجابة الصحيحة	الدرجة	الصفحة												
أ	١	<table><tr><th>اسم الحضارة</th><th>الدولة التي تقع فيها حالياً</th><th>أهم مظاهر التواصل والإتصال مع حضارة عُمان</th></tr><tr><td>١ - المصرية القديمة (الفرعونية)</td><td>مصر</td><td>٢ - تجارة البخور واللبنان</td></tr><tr><td>٣ - دلمون</td><td>البحرين</td><td>٤ - النحاس والأحجار</td></tr><tr><td>٥ - الفرس (الفارسية) (الساسانية)</td><td>ايران</td><td>٦ - تجارة أو سيطرة على سواحل عُمان</td></tr></table> <p>(ملاحظة يكتفى بذكر اسم حضارة واحدة لكل دولة، أو مظهر واحد لكل دولة)</p>	اسم الحضارة	الدولة التي تقع فيها حالياً	أهم مظاهر التواصل والإتصال مع حضارة عُمان	١ - المصرية القديمة (الفرعونية)	مصر	٢ - تجارة البخور واللبنان	٣ - دلمون	البحرين	٤ - النحاس والأحجار	٥ - الفرس (الفارسية) (الساسانية)	ايران	٦ - تجارة أو سيطرة على سواحل عُمان	٣ درجات لكل نصف درجة	٥١ ٥٢ ٥٤ ٥٧
	اسم الحضارة	الدولة التي تقع فيها حالياً	أهم مظاهر التواصل والإتصال مع حضارة عُمان													
	١ - المصرية القديمة (الفرعونية)	مصر	٢ - تجارة البخور واللبنان													
٣ - دلمون	البحرين	٤ - النحاس والأحجار														
٥ - الفرس (الفارسية) (الساسانية)	ايران	٦ - تجارة أو سيطرة على سواحل عُمان														
٢	- النقوش والرسومات على الأواني والأختام والفنون والتماثيل الهندية من الأحجار والعاج وأدوات منزلية وحلي نسائية والمعمار. <u>(يكتفى بذكر اثنين)</u>		٢	٥٣												
ب	١	- نظراً لامتدادها على المسطحات المائية من ناحية، واحتوائها على السهول والسلاسل الجبلية من ناحية أخرى.	١,٥	٣٧												
	٢	- اعتماد السومريون على استيراد خامات أساسية من عمان مثل الأحجار والنحاس واللبن، وجود الموانئ وتوفيرها ،ودور تجار دلمون في تسهيل التجارة. <u>(بما يفيد المعنى)</u>	١,٥	٥٢												
ج	١	التعرية المائية. <u>(لا يشترط الترتيب بين رقم ٢،١)</u>	١	٣٠												
	٢	التعرية الريحية. <u>(لا يشترط الترتيب بين رقم ١،٢)</u>	١	٣٠												
	٣	الارسابات الفيضية (إرسابات الاودية الانتشارية).	١	٣٠												
	٤	المسفاة (مسفاة العبريين).	١	٣٠												

نهاية نموذج الإجابة.



امتحان الصف الحادي عشر
للعام الدراسي ١٤٣٥/١٤٣٦ هـ - ٢٠١٤/٢٠١٥ م
الدور الأول - الفصل الدراسي الأول

- المادة: الدراسات الاجتماعية (هذا وطني في السيرة الحضارية لعمان) ● عدد صفحات أسئلة الامتحان: (٩) .
- زمن الإجابة: ساعتان
- الإجابة في الورقة نفسها.

اسم الطالب المدرسة		
الصف		


(التوقيع بالاسم)		الدرجة بالحروف (بالأحمر)	الدرجة بالأرقام (بالأحمر)		الترتيب
			عشرات	آحاد	
المصحح (بالأحمر)	المدقق (بالأخضر)				١
					٢
					٣
					٤
مراجعة الجمع والتشطيب (بالأزرق)	جمعه (بالأحمر)				المجموع
				٦٠	المجموع الكلي

امتحان الصف الحادي عشر
للعام الدراسي ١٤٣٥/١٤٣٦ هـ — ٢٠١٤/٢٠١٥ م
الدور الأول - الفصل الدراسي الأول

- المادة: الدراسات الاجتماعية (هذا وطني في السيرة الحضارية لعمان)
- تنبيه: الأسئلة في (٩) صفحات.
- زمن الإجابة: ساعتان .

أجب عن جميع الأسئلة الآتية:

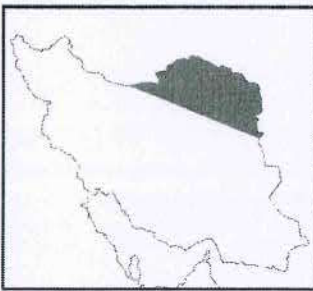
السؤال الأول: ضع دائرة حول رمز الإجابة الصحيحة لكل مفردة من المفردات الآتية:



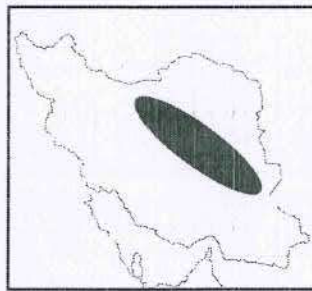
١ (الصورة التي أمامك تعدّ أهم إنجازات الإنسان في العصر :

- أ - الحديدي.
- ب - الحجري الحديث .
- ج - الحجري الوسيط.
- د - البرونزي.

٢ (الخريطة التي توضح الموطن الأصلي للسلالة الساسانية الحاكمة قديما في إيران :



(د)



(ج)



(ب)



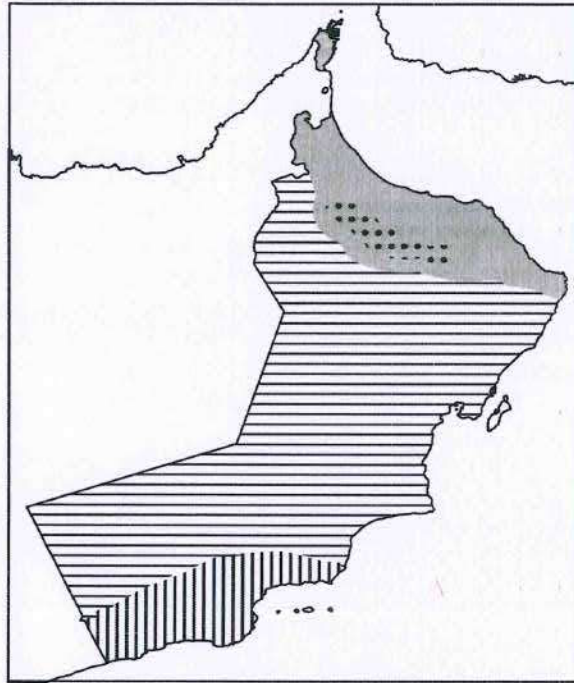
(أ)

٣ (تدرج " مراكز الوفاء لتأهيل الأطفال المعوقين " في سلطنة عمان ضمن إشراف وزارة:
أ - التربية والتعليم. ب - التنمية الاجتماعية. ج - القوى العاملة . د - التعليم العالي.

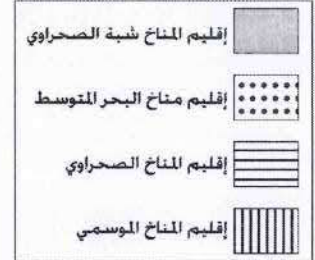
(٢)
امتحان الصف الحادي عشر
للعام الدراسي ١٤٣٥/١٤٣٦ هـ — ٢٠١٤ / ٢٠١٥ م
الدور الأول - الفصل الدراسي الأول
المادة : الدراسات الاجتماعية " هذا وطني "

تابع السؤال الأول:

٤ () أمامك خريطة تمثل الأقاليم المناخية في سلطنة عمان، تأملها جيدا ثم اختر المفتاح المناسب لها:



(ب)



(أ)



(د)



(ج)

٥ () الجدول الذي يمثل المناطق التي شملتها الإمبراطورية العمانية عبر التاريخ:

سواحل الهند	سواحل أفريقيا الشرقية	سواحل الهند	سواحل البحر المتوسط
سواحل بلاد المغرب	سواحل الهند	سواحل بلاد فارس	سواحل بلاد فارس
سواحل أفريقيا الشرقية	سواحل بلاد فارس	سواحل بلاد الشام	سواحل الهند
(د)	(ج)	(ب)	(أ)

٦ () الفترة الزمنية لإجازة الأمومة التي تتمتع بها المرأة العمانية العاملة حسب قانون الخدمة المدنية :
أ. ثلاثون يوما. ب. أربعون يوما. ج. خمسون يوما. د. ستون يوما.

(٣)
امتحان الصف الحادي عشر
للعام الدراسي ١٤٣٥/١٤٣٦ هـ — ٢٠١٤ / ٢٠١٥ م
الدور الأول - الفصل الدراسي الأول
المادة : الدراسات الاجتماعية " هذا وطني "

تابع السؤال الأول:

٧ (العام الميلادي الذي تعود إليه نشأة مجموعات دعم صحة المجتمع في سلطنة عمان :

أ - ١٩٨٩ . ب - ١٩٩٠ . ج - ١٩٩١ . د - ١٩٩٢ .

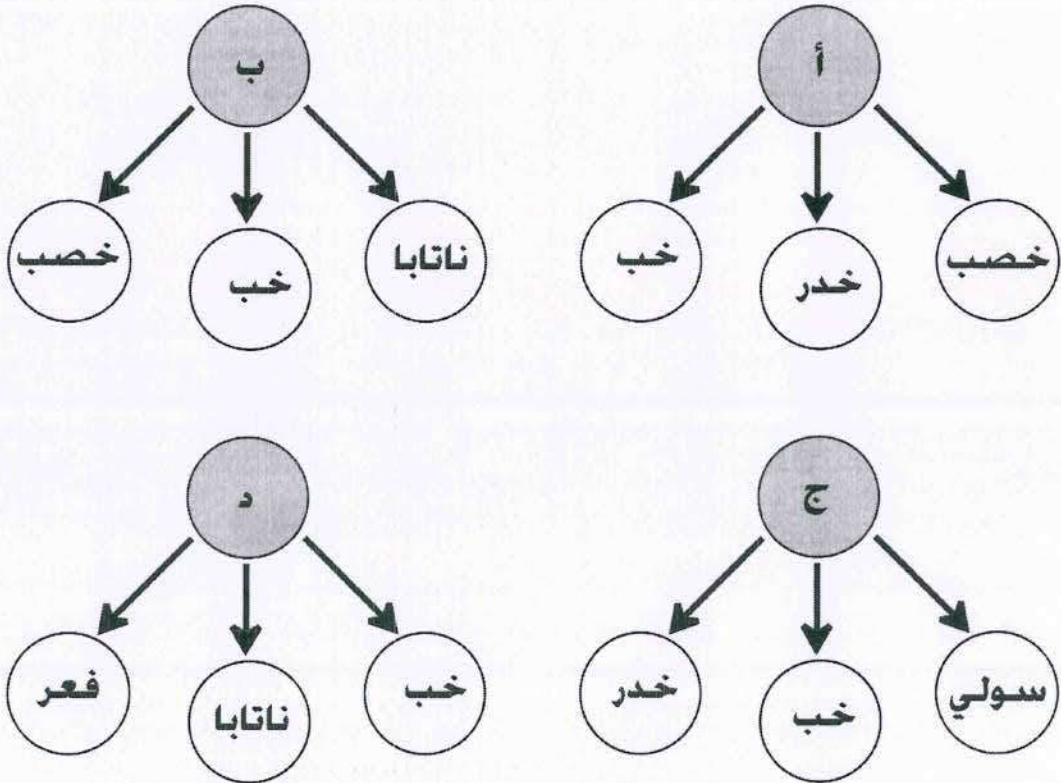
٨ (الأرقام التي تمثل الشخصيات التي ذكرت وصفا جغرافيا في مؤلفاتها عن عمان خلال القرن العاشر الميلادي في الجدول المقابل هي:

م	الشخصيات
١	الأصطخري
٢	الهمذاني
٣	الحميري
٤	الأدريسي

أ - (٢، ١) ب - (١، ٣)

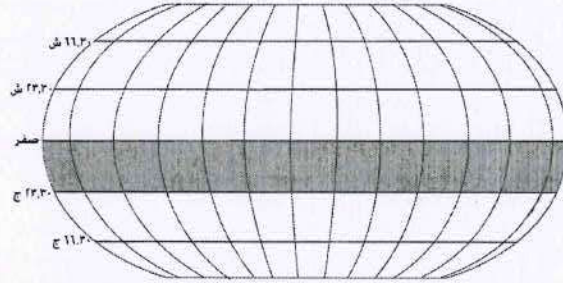
ج - (٢، ٣) د - (٤، ١)

٩ (خريطة المفاهيم التي تمثل أبرز الأودية التي تتحدر عبر سلسلة جبال مسندم:

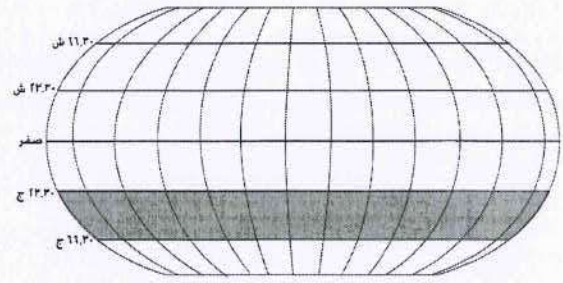


(٤)
امتحان الصف الحادي عشر
للعام الدراسي ١٤٣٥/١٤٣٦ هـ — ٢٠١٤/٢٠١٥ م
الدور الأول - الفصل الدراسي الأول
المادة : الدراسات الاجتماعية " هذا وطني "

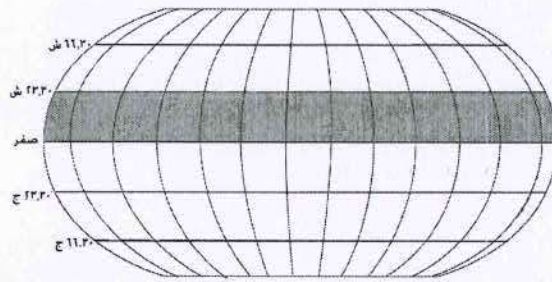
١٠ (الشكل الذي يمثل المنطقة الحرارية التي تقع ضمنها سلطنة عمان :



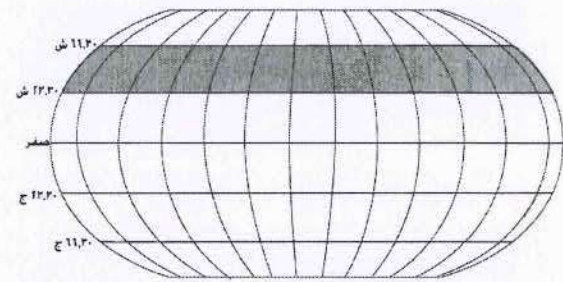
(ب)



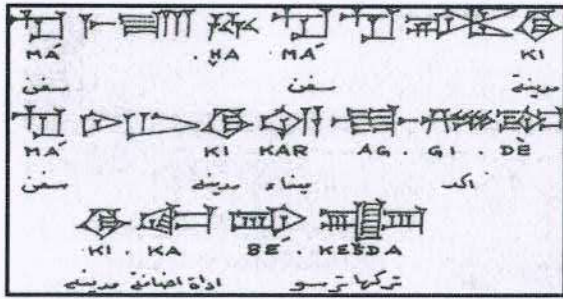
(أ)



(د)



(ج)




وثيقة سرجون الأكادي

١١ (الحضارات التي ورد ذكرها في الشكل أمامك :

- أ - ميلوخا - دلمون - مجان .
- ب - ميلوخا - آشور - دلمون.
- ج - بابل - عيلام - دلمون.
- د - مجان - سومر - ميلوخا.

١٢ (الصورة التي تمثل فن العازي في سلطنة عمان :



ب



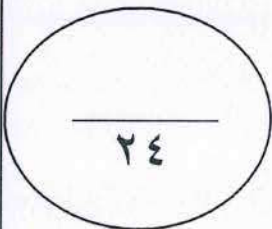
أ



د



ج



٢٤

يتبع/٥

(٥)
امتحان الصف الحادي عشر
للعام الدراسي ١٤٣٥/١٤٣٦ هـ — ٢٠١٤/٢٠١٥ م
الدور الأول - الفصل الدراسي الأول
المادة : الدراسات الاجتماعية " هذا وطني "

السؤال الثاني:

أ) اذكر اثنين لكل من:

١- العوامل التي ساعدت سلطنة عمان على الخروج من حالة التطرف المناخي .

.....
.....

٢- مسميات ظفار القديمة لدى اليونان.

.....
.....

ب) فسّر العبارات الآتية:

١- برع العمانيون في تجارة العبور قديما.

.....
.....

٢- حرص العمانيون على الأوقاف والمحافظه عليها .

.....
.....

ج) ١- صنّف الجزر الآتية في الجدول التالي:

(بوسر - القبليه - شنيص - دايدامار)

جزر تابعة لشبه جزيرة مسندم	جزر تابعة لجزر الحلايبات

٢- كيف تمكّن ياقوت الحموي في كتابه معجم البلدان من وصف موقع عمان ومدنها؟

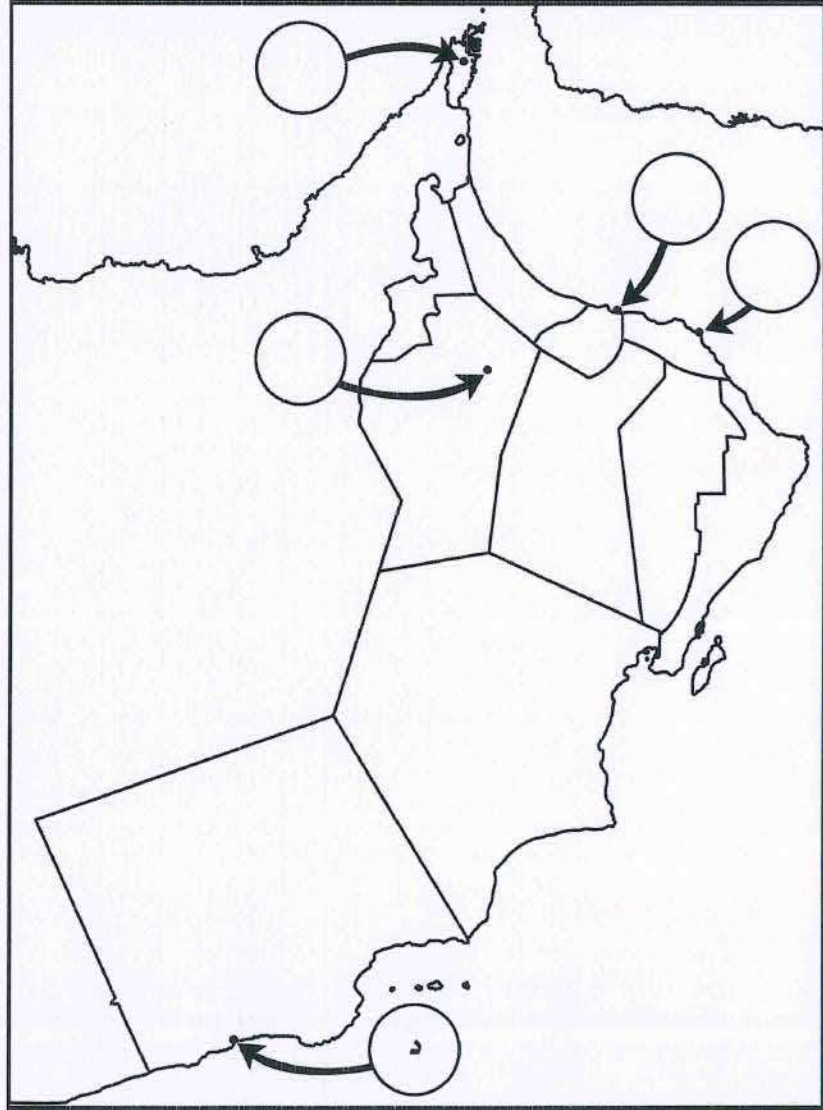
.....
.....

.....
.....


.....
.....

(٦)
امتحان الصف الحادي عشر
للعام الدراسي ١٤٣٤/١٤٣٥ هـ — ٢٠١٣/٢٠١٤ م
الدور الأول - الفصل الدراسي الأول
المادة : الدراسات الاجتماعية " هذا وطني "

السؤال الثالث: أ) أمامك خريطة سلطنة عمان ، ادرسها ثم أجب عن الأسئلة التالية :



- ١- اكتب رمز كل عبارة مما يلي في الدائرة المناسبة على الخريطة.
أ- المدينة التي تقع فيها سبخة السوادي.
ب- المدينة التي كانت تسمى " السر ".
ج- المدينة التي يمر بها مدار السرطان.
- ٢- سمِّ الرِّحالة الذي وصف المدينة المشار إليها بالرمز (د) في القرن الرابع عشر الميلادي.

تابع السؤال الثالث:

ب (دقق النظر في الشكل أمامك، ثم أجب عن الأسئلة الآتية:

١- ما اسم الحدث التاريخي الذي يمثله الشكل؟

.....

٢ - اذكر الفترة الزمنية التي تعود إليها النقوش الظاهرة في الشكل .

.....

ج (أجب عن الأسئلة الآتية :

١- بيّن دور كلٍّ من:

أ- حمورابي في ازدهار التجارة مع عمان قديماً.

.....

.....

.....

ب- العمانيين في نقل التأثيرات الحضارية الهندية إلى العراق قديماً .

.....

.....

.....

ج- الوسيط " الوكيل " في التجارة بين عمان والعراق قديماً.

.....

.....

.....

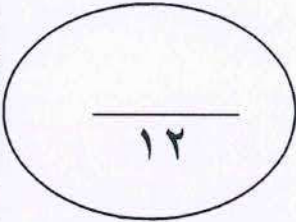
(٨)
امتحان الصف الحادي عشر
للعام الدراسي ١٤٣٥/١٤٣٦ هـ — ٢٠١٤ / ٢٠١٥ م
الدور الأول - الفصل الدراسي الأول
المادة : الدراسات الاجتماعية " هذا وطني "

تابع السؤال الثالث:

٢- وفق معرفتك بمفهوم التنمية الاجتماعية العامة والتنمية الاجتماعية الخاصة، وزع العبارات الآتية في الجدول الذي يليها:

(رعاية الأمومة والطفولة - الفحص قبل الزواج - المباشرة بين الولادات - نظام الأسرة البديلة - الضمان الاجتماعي - رعاية المسنين).

التنمية الاجتماعية العامة	التنمية الاجتماعية الخاصة



السؤال الرابع:

أ) اكتب بين القوسين المصطلح أو المفهوم الصحيح لكل عبارة مما يأتي:

١- (.....) مصبات الأودية التي تستطيع كسر الحاجز الرملي والولوج إلى البحر فتتدفق مياه المد خلالها.

٢- (.....) الاسم المحلي للوحدات الجبلية في سلطنة عمان.

٣- (.....) تعد من صور السبلّة العمانية في بعض ولايات عمان، يجتمع فيها الوالي مع مع أعيان البلاد وأصحاب الدعاوى.

يتبع ٩/

(٩)
امتحان الصف الحادي عشر
للعام الدراسي ١٤٣٥/١٤٣٦ هـ — ٢٠١٤ / ٢٠١٥ م
الدور الأول - الفصل الدراسي الأول
المادة : الدراسات الاجتماعية " هذا وطني "

تابع :السؤال الرابع:

ب (أجب عن الأسئلة الآتية:
١- علّل العبارة الآتية :

" أصبحت الكثير من الأسر العمانية تدرج ضمن نوعية الأسر العمانية الصغيرة حديثا "

٢- أكمل المخطط الزمني الآتي والذي يمثل بعض المواقع الأثرية في عمان :

الألف العاشرة ق. م	الألف الثالثة ق. م	الألف الثانية ق. م
.....	الحمراء	مدحا - رأس الجنز بات.....	مدحا - سلوت

ج (أجب عن الأسئلة الآتية :

١- " تعد اللغة العربية من أهم مرتكزات المجتمع العماني " وضح العبارة .


٢- سمّ الميدان الذي يقام فيه سباق الخيل السلطاني السنوي .



نموذج إجابة امتحان الصف الحادي عشر
للعام الدراسي ١٤٣٥/١٤٣٦ هـ - ٢٠١٤/٢٠١٥ م
الدور الأول - الفصل الدراسي الأول

المادة: الدراسات الاجتماعية (هذا وطني في السيرة الحضارية لعمان) الدرجة الكلية: (٦٠) درجة
تنبيه: نموذج الإجابة في (٧) صفحات

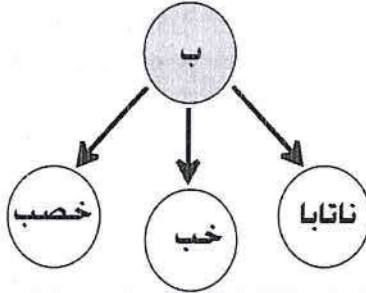
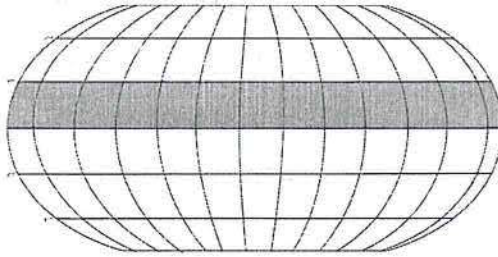

أولاً: إجابة السؤال الموضوعي:

إجابة السؤال الأول		الدرجة: (٢٤) درجة		
المفردة	البديل الصحيح	الإجابة	الدرجة	الصفحة
١	ب	الحجري الحديث	٢	٤٧
٢	أ		٢	٤٢
٣	ب	وزارة التنمية الاجتماعية	٢	٨٢
٤	أ	<div style="display: flex; flex-direction: column; align-items: flex-start;"> <div style="display: flex; align-items: center; margin-bottom: 5px;"> <div style="width: 20px; height: 10px; background-color: gray; border: 1px solid black; margin-right: 5px;"></div> <div>إقليم المناخ شبة الصحراوي</div> </div> <div style="display: flex; align-items: center; margin-bottom: 5px;"> <div style="width: 20px; height: 10px; background: repeating-linear-gradient(45deg, transparent, transparent 2px, black 2px, black 4px); border: 1px solid black; margin-right: 5px;"></div> <div>إقليم مناخ البحر المتوسط</div> </div> <div style="display: flex; align-items: center; margin-bottom: 5px;"> <div style="width: 20px; height: 10px; background: repeating-linear-gradient(-45deg, transparent, transparent 2px, black 2px, black 4px); border: 1px solid black; margin-right: 5px;"></div> <div>إقليم المناخ الصحراوي</div> </div> <div style="display: flex; align-items: center;"> <div style="width: 20px; height: 10px; background: repeating-linear-gradient(90deg, transparent, transparent 2px, black 2px, black 4px); border: 1px solid black; margin-right: 5px;"></div> <div>إقليم المناخ الموسمي</div> </div> </div> <p>(أ)</p>	٢	٣٤

يتبع/٢

(٢)
تابع نموذج إجابة امتحان الصف الحادي عشر
للعام الدراسي ١٤٣٥/١٤٣٦ هـ - ٢٠١٤/٢٠١٥ م
الدور الأول - الفصل الدراسي الأول
المادة: الدراسات الاجتماعية (هذا وطني)

تابع: إجابة السؤال الموضوعي:

إجابة السؤال الأول		الدرجة: (٢٤) درجة	
المفردة	البديل الصحيح	الإجابة	الدرجة
٥	ج	سواحل أفريقيا الشرقية سواحل الهند سواحل بلاد فارس	٢
٦	ج	خمسون يوما	٢
٧	د	١٩٩٢	٢
٨	أ	(٢، ١)	٢
٩	ب		٢
١٠	د		٢
١١	أ	ميلوفا - دلمون - مجان .	٢
١٢	د		٢
المجموع		٢٤ درجة	

تابع نموذج إجابة امتحان الصف الحادي عشر
للعام الدراسي ١٤٣٥/١٤٣٦ هـ - ٢٠١٤/٢٠١٥ م
الدور الأول - الفصل الدراسي الأول
المادة: الدراسات الاجتماعية (هذا وطني)



ثانياً: إجابة الأسئلة المقالية:

إجابة السؤال الثاني				
الدرجة الكلية : (١٢) درجة				
الجزئية	المفردة	الإجابة الصحيحة	الدرجة	الصفحة
أ	١	١ - المنخفضات الجوية والكتل الهوائية الباردة التي تعبر شرق البحر المتوسط وجنوب ايران وتصل لشمال السلطنة. ٢ - هبوب الرياح الموسمية الصيفية على جنوب السلطنة. ٣ - المرتفعات التي ترتفع فوق مستوى سطح البحر . ٤ - القرب من المسطحات المائية . يكتفى باثنين لكل درجة	٢	٣٤
	٢	- مسقا - وبار - سفار - ظفار يكتفى باثنين لكل درجة	٢	٤٢ ٤٣
ب	١	- موقع عمان الاستراتيجي. - وقوع السلطنة على مسطحات مائية عدة مثل الخليج العربي وبحر عمان وبحر العرب ومضيق هرمز . - علاقات عمان الحضارية البحرية الكبيرة مع ما جاورها من حضارات مثل الهند والصين وشرق أفريقيا ومصر وحضارات شبه الجزيرة العربية. - خبرة العمانيون في الملاحة وبناء السفن والأساطيل . - انتشار الموانئ على طول السواحل العمانية . - اتساع عمان وتكوين إمبراطورية مترامية الأطراف. - نقطة اتصال بين الشرق والغرب. يكتفى بتفسير واحد	٢	٢٢ ٢٣
	٢	- ارتباطها بتعاليم الشريعة الإسلامية . - ذات فائدة اقتصادية ومعنوية للموقف وللموقوف له والمجتمع. - تعد صدقة جارية للموقف. ملاحظة : إذا ذكر الطالب أي فائدة مرجوة من أوجه الوقف المختلفة تعد إجابته صحيحة ويعطى الدرجة كاملة. يكتفى بتفسير واحد	٢	٧٥

تابع نموذج إجابة امتحان الصف الحادي عشر
للعام الدراسي ١٤٣٥/١٤٣٦ هـ - ٢٠١٤/٢٠١٥ م
الدور الأول - الفصل الدراسي الأول
المادة: الدراسات الاجتماعية (هذا وطني)
تابع ثانياً: إجابة الأسئلة المقالية:

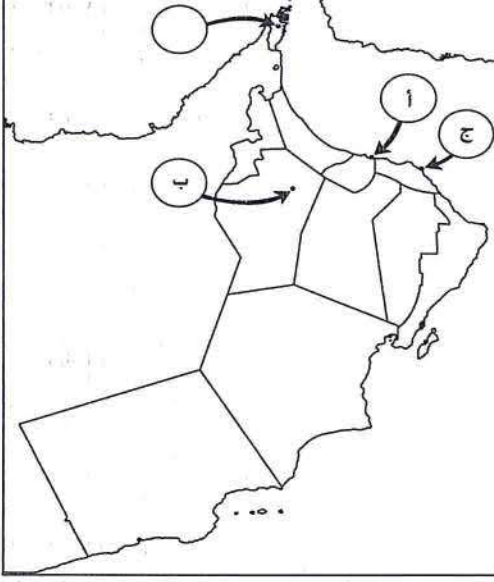


تابع إجابة السؤال الثاني						
ج	١	جزر تابعة لشبه جزيرة مسندم	جزر تابعة لجزر الحلايبات	٣٣		
		بوسر - ديدامار	القبليّة - شنيص			
	٢	<p>- بالنسبة للموقع ذكر أن عمان اسم كورة عربية أو إقليم عربي على ساحل بحر اليمن والهند / عمان في الإقليم الأول طولها (٧٤) درجة و (٣٠) دقيقة، وعرضها (١٩) درجة و (٤٥) دقيقة / تقع شرقي بلاد الهجر وتضم بلدانا كثيرة وهي ذات نخيل وزروع / وصف الموقع الفلكي لعمان أو وصف الموقع حسب خطوط الطول ودوائر العرض / وصف الموقع الجغرافي لعمان / ذكر بأنها تطل على بحر اليمن والهند.</p> <p>يكتفى بإجابة واحدة</p>			١	١٨
		<p>- بالنسبة لوصف مدنها ذكر مسقط بأنها تقع على ساحل البحر / ذكر قلعات وأشار أنها تقع على ساحل البحر وإليها ترفأ سفن الهند وهي مدينة ليست بالقديمة في العمارة ، وهي من أشهر مدن عمان وأحسنها ، عامرة وأهلة بالسكان ، فرضت بلاد عمان على المحيط الهندي وبحر العرب / ذكر بأن بعض مدن عمان مثل مسقط وقلعات تقع على البحر.</p> <p>يكتفى بإجابة واحدة</p>				
<p>ملاحظة : يعطى الطالب درجتين إذا ذكر بأن <u>عمان ومدنها</u> تقع على ساحل البحر أو يحدها البحر من الشرق ومن الغرب بلاد الهجر أو تقع على ساحل بحر اليمن والهند.</p>						

يتبع/٥

تابع نموذج إجابة امتحان الصف الحادي عشر
للعام الدراسي ١٤٣٥/١٤٣٦ هـ - ٢٠١٤/٢٠١٥ م
الدور الأول - الفصل الدراسي الأول
المادة: الدراسات الاجتماعية (هذا وطني)
تابع ثانياً: إجابة الأسئلة المقالية:



إجابة السؤال الثالث				
الدرجة الكلية: (١٢) درجة				
الصفحة	الدرجة	الإجابة الصحيحة	المفردة	الجزئية
٣٢ ١٨ ٢٠	ثلاث درجات لكل درجة.	 <p>ملاحظة: إذا كتب الطالب الإجابة الصحيحة على الدائرة بدلاً من الرموز يعطى الدرجة.</p>	١ - أ	
١٩	١	ابن بطوطة ملاحظة: إذا كتب الطالب الحميري تعد الإجابة صحيحة.	٢	أ
٥٤	١	رحلة الملكة حنتشبسوت إلى ظفار / رحلة سفينة فرعونية إلى ظفار أو بلاد بونت.	١	ب
٥٥	١	٤٠٠ ق.م	٢	

يتبع/٦

تابع نموذج إجابة امتحان الصف الحادي عشر
للعام الدراسي ١٤٣٥/١٤٣٦ هـ - ٢٠١٤/٢٠١٥ م
الدور الأول - الفصل الدراسي الأول
المادة: الدراسات الاجتماعية



تابع ثانياً: إجابة الأسئلة المقالية:

تابع إجابة السؤال الثالث:				
الجزئية	المفردة	الإجابة الصحيحة	الدرجة	الصفحة
ج (١)	أ- وضع تشريعات وقوانين تتعلق بأسعار السلع وأمن التجار وتحديد الموازين والمكاييل وراحة التجار والوكلاء وحرية التنقل وضمانات للصكوك والصفقات. يكتفى بإجابة واحدة		١	٥٤
	ب-نقل العديد من المحاصيل الزراعية / نقل المؤثرات الفنية الخاصة بالنقوش والرسومات على الأواني والأختام /تشابه أختام السند وجوجيرات مع أختام بلاد سومروبايل / ظهور الفنون والتمثيل الهندية من الأحجار والعاج في منازل أهل العراق/ظهور أدوات منزلية وحلي نسائية تتشابه في صناعتها بين الطرفين / التشابه في استعمال الطين ونظام الغرف والحجرات لبناء المنازل . يكتفى بإجابة واحدة		١	٥٣
	ج- يقوم بعملية التفريغ للبضائع / ضمان تسليم البضائع ودفع القيمة / التوزيع للبضائع في المدن المختلفة / مرافقة التجار/ الإشراف على عمليات الشحن / ترتيب الصفقات التجارية . يكتفى بإجابة واحدة		١	٥٣
ج (٢)	<div> <div>التنمية الاجتماعية العامة</div> <div>رعاية الأمومة والطفولة / الفحص قبل الزواج / المباعدة بين الولادات.</div> </div>		٣ درجات لكل نصف.	٨٠-٨٢
	<div> <div>التنمية الاجتماعية الخاصة</div> <div>نظام الأسرة البديلة / الضمان الاجتماعي /رعاية المسنين.</div> </div>			

يتبع/٧

تابع نموذج إجابة امتحان الصف الحادي عشر
للعام الدراسي ١٤٣٥/١٤٣٦ هـ - ٢٠١٤/٢٠١٥ م

الدور الأول - الفصل الدراسي الأول
المادة: الدراسات الاجتماعية

تابع ثانياً: إجابة الأسئلة المقالية:

إجابة السؤال الرابع:		الدرجة الكلية : (١٢) درجة	
أ	١	الأخوار المؤقتة / الموسمية	٣٢
	٢	المسافة	٣٠
	٣	البرزة	٧٢
ب	١	هجرة العديد من الأسر إلى مناطق أخرى / أصبح أفراد الأسرة الواحدة يعملون في مهن مختلفة / تأخر سن الزواج / محاولة تنظيم الأسرة / المباحة بين الولادات / التطلع إلى مستوى معيشي جيد / ضمان الحصول على الرعاية الصحية والتعليمية والخدمية المناسبة. يكتفى بتعليل واحد.	٧٣
ب - ٢			٤ لكل درجة ٥٠ - ٤٨
ج	١	لغة المجتمع التي طبعته بطابعها وثقافتها وآدابها وطرق التفكير بها / وهي وعاء الثقافة العمانية بما تحويه من أشعار وقصص وتاريخ ومنجزات حضارية متنوعة. يكتفى بإجابة واحدة وما يفيد المعنى	٦٨
	٢	ميدان العاديات	٧٢

انتهى نموذج الإجابة



امتحان الصف الحادي عشر
للعام الدراسي ١٤٣٧/١٤٣٨ هـ - ٢٠١٦/٢٠١٧ م
الدور الأول - الفصل الدراسي الأول

- المادة: الدراسات الاجتماعية (هذا وطني في السيرة الحضارية لعمان) ● عدد صفحات أسئلة الامتحان: (١١)
● زمن الإجابة: ساعتان ● الإجابة في الورقة نفسها.

اسم الطالب	
المدرسة	الصف

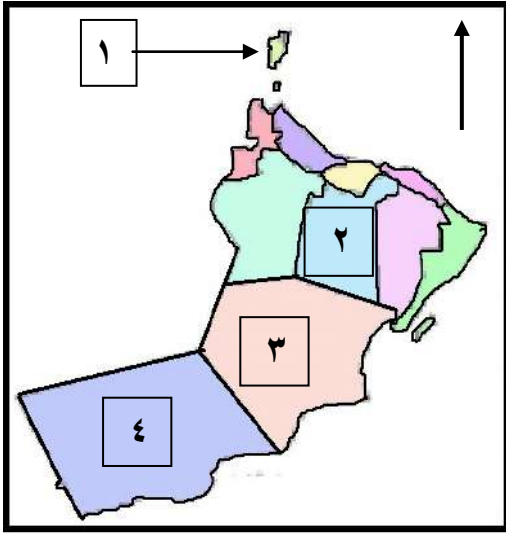
السؤال	الدرجة		التوقيع بالاسم	
	بالأرقام	بالحروف	المصحح الأول	المصحح الثاني
١				
٢				
٣				
٤				
المجموع			جمعه	مراجعة الجمع
المجموع الكلي				

(١)
امتحان الصف الحادي عشر
للعام الدراسي ١٤٣٧/١٤٣٨ هـ - ٢٠١٦/٢٠١٧ م
الدور الأول - الفصل الدراسي الأول
المادة: الدراسات الاجتماعية (هذا وطني)

أجب عن جميع الأسئلة الآتية

السؤال الأول: ضع دائرة حول رمز الإجابة الصحيحة لكل مفردة من المفردات الآتية:

١ (الرقم الذي يشير إلى المحافظة التي تقع فيها مدينة سلوت الوارد ذكرها في كتاب "احسن التقاسيم" في الخريطة المقابلة:



خريطة سلطنة عمان (إدارية)

- أ - ١
ب - ٢
ج - ٣
د - ٤

٢ (الوزارة المسؤولة عن تقديم البرامج الخاصة لتأهيل الفئة الظاهرة بعض رموزها في الشكل المقابل:



- أ - القوى العاملة
ب - الشؤون القانونية
ج - التنمية الاجتماعية
د - الشؤون الرياضية

٣ (المجال الذي تقوم بدعّمه منظمة اليونيسيف في سلطنة عمان:

- أ - السياسي
ب - الصحي
ج - الديني
د - الاقتصادي

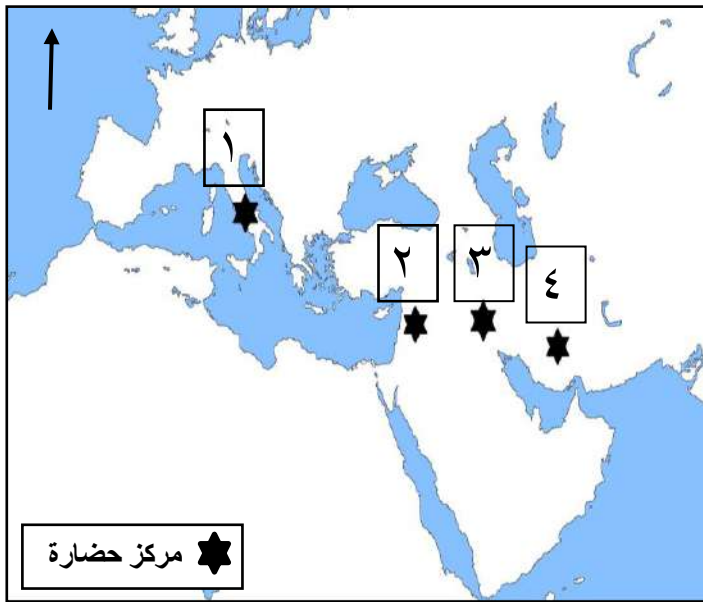
(٢)
تابع امتحان الصف الحادي عشر
للعام الدراسي ١٤٣٧/١٤٣٨ هـ - ٢٠١٦/٢٠١٧ م
الدور الأول - الفصل الدراسي الأول
المادة: الدراسات الاجتماعية (هذا وطني)

تابع السؤال الأول:

٤ (الجغرافي الذي وصف الامتداد الطولي والعرضي لعمان بالدرجات في بدايات القرن الثالث عشر الميلادي:

أ - الإصطخري ب - الحميري ج - الإدريسي د - الحموي

٥ (الجدول الذي يمثل التسميات التي ظهرت في كتابات الحضارات القديمة -
الموضحة مراكزها في الخريطة أدناه - على بعض أقاليم عمان:



الحضارة	التسمية
١	مزون
٢	ماكان
٣	أوفير
٤	عمانة

ب -

الحضارة	التسمية
١	أوفير
٢	عمانة
٣	مزون
٤	ماكان

أ -

الحضارة	التسمية
١	عمانة
٢	أوفير
٣	ماكان
٤	مزون

د -

الحضارة	التسمية
١	ماكان
٢	مزون
٣	عمانة
٤	أوفير

ج -

٦ (الصورة الرسمية للسبلة العمانية يجتمع فيها الوالي مع أعيان البلاد وأصحاب الدعاوى مرة كل أسبوع ، لفض الدعاوى المختلفة وتدارس أوضاع الولاية:

أ - الجمعية ب - البرزة ج - السوق د - الميدان

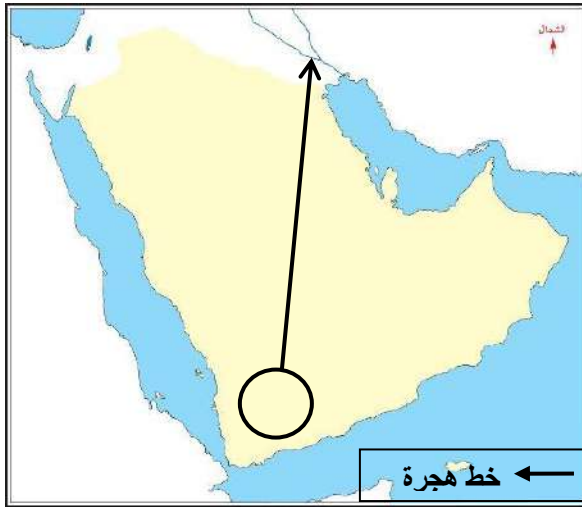
(٣)
تابع امتحان الصف الحادي عشر
للعام الدراسي ١٤٣٧/١٤٣٨ هـ - ٢٠١٦/٢٠١٧ م
الدور الأول - الفصل الدراسي الأول
المادة: الدراسات الاجتماعية (هذا وطني)

تابع السؤال الأول:

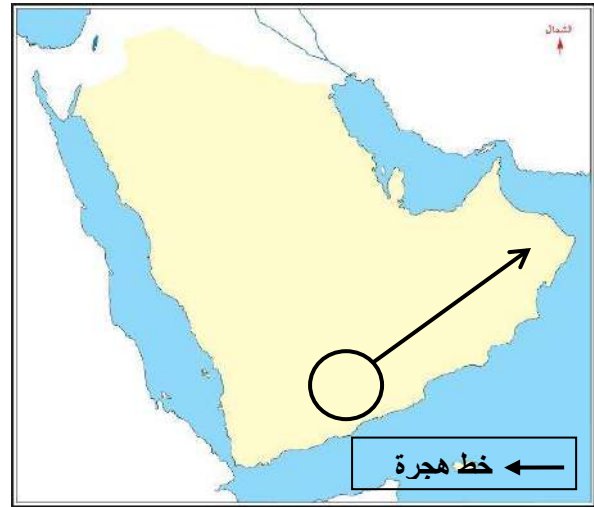
(٧) نوع النشاط السياحي الذي قام به طلاب كلية العلوم بجامعة السلطان قابوس في جبل شمس للتعرف على أنواع الصخور وزمن تكونها:

أ - تراثي ب - اقليمي ج - جيولوجي د - تاريخي

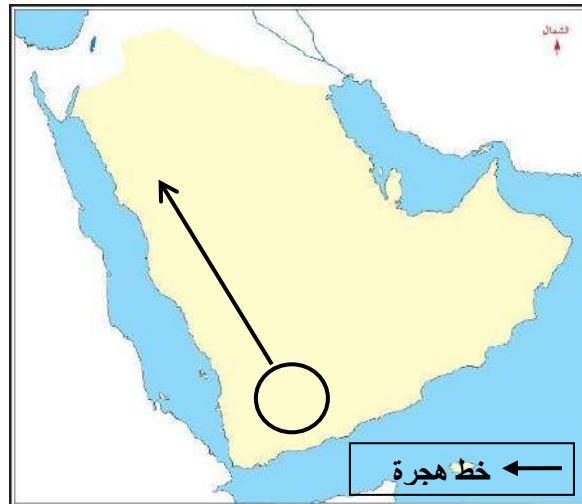
(٨) الخريطة التي تمثل خط اتجاه هجرة مالك بن فهم بعد خروجه من اليمن:



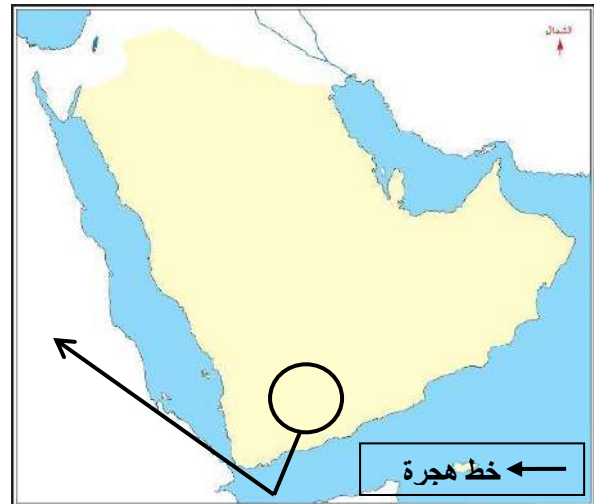
ب -



أ -



د -



ج -

يتبع/٤

(٤)

تابع امتحان الصف الحادي عشر
للعام الدراسي ١٤٣٧/١٤٣٨ هـ - ٢٠١٦/٢٠١٧ م
الدور الأول - الفصل الدراسي الأول
المادة: الدراسات الاجتماعية (هذا وطني)

تابع السؤال الأول:

٩ (المدينة التي يشعر سكانها بالإرهاق
الحراري حسب معطيات الجدول المقابل:

المدينة	درجة الحرارة	الرطوبة النسبية
١	٤٧	٨٥
٢	٥٠	٣٠
٣	٤٨	٤٠
٤	٣٣	٤٥

ب - ٢

أ - ١

د - ٤

ج - ٣

١٠ (العصر الذي بدأت فيه الخطوات الأولى لصناعة الفخار في عمان:

ب - الحجري الوسيط

أ - الحجري القديم

د - البرونزي الوسيط

ج - الحديدي المبكر

١١ (المحافظة العمانية التي تحتل المرتبة الأولى في انتشار الظاهرة الطبيعية
الموضحة في الصورة المقابلة:



ب - مسقط

أ - مسندم

د - ظفار

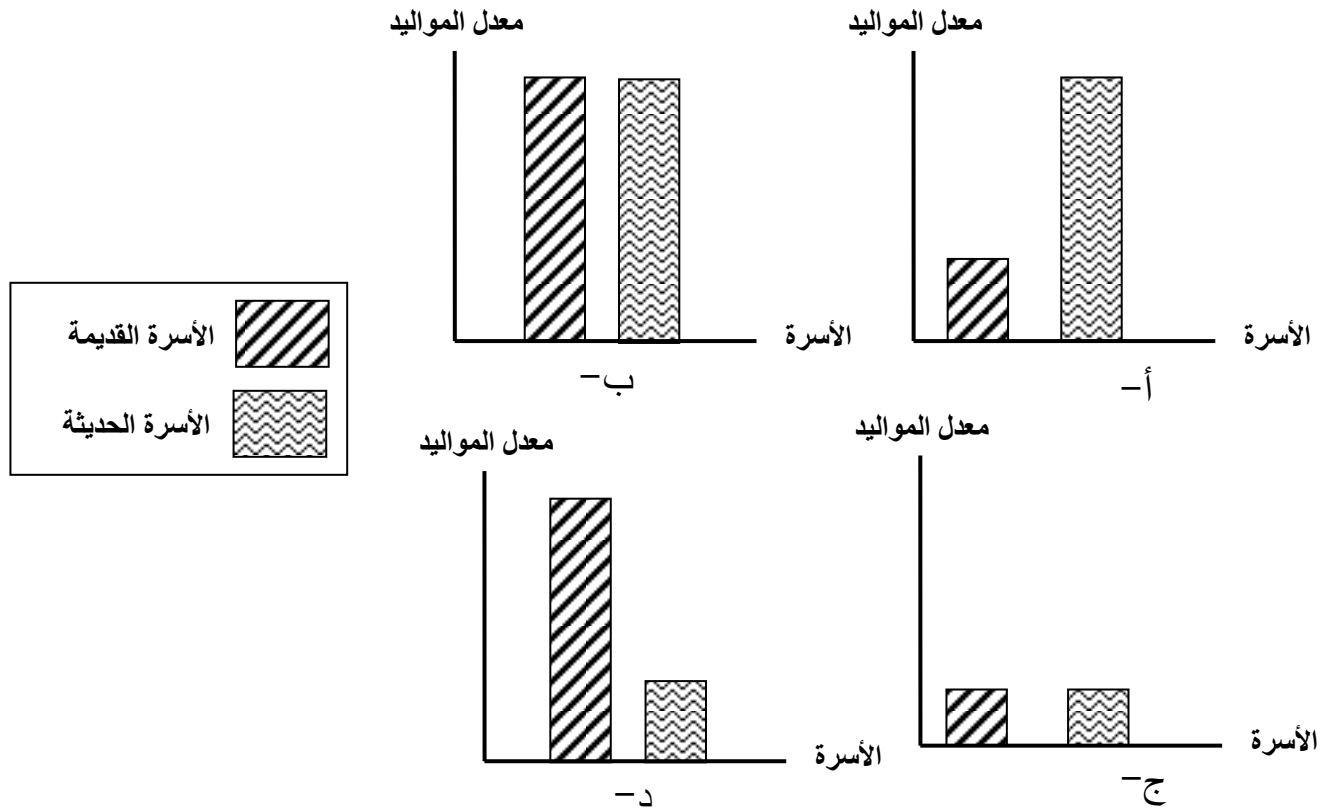
ج - الظاهرة

يتبع/٥

(٥)
تابع امتحان الصف الحادي عشر
للعام الدراسي ١٤٣٧/١٤٣٨ هـ - ٢٠١٦/٢٠١٧ م
الدور الأول - الفصل الدراسي الأول
المادة: الدراسات الاجتماعية (هذا وطني)

تابع السؤال الأول:

١٢) الرسم البياني الذي يمثل معدلات المواليد للأسرة العمانية قديما وحديثا:



السؤال الثاني : اجب عن الأسئلة الآتية:

أولا : ما المقصود بكل من :

١ - التأمين الصحي :

.....

٢ - المسافة :

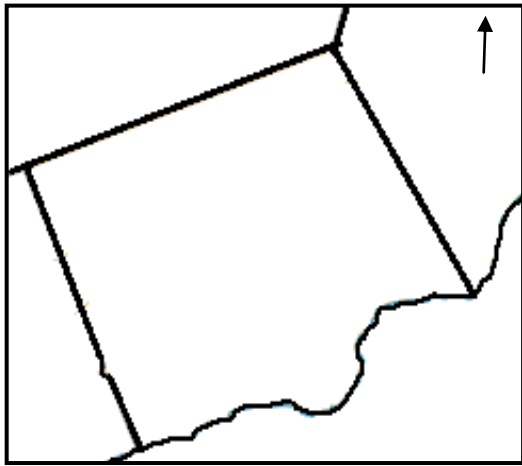
.....

(٦)
تابع امتحان الصف الحادي عشر
للعام الدراسي ١٤٣٧/١٤٣٨ هـ - ٢٠١٦/٢٠١٧ م
الدور الأول - الفصل الدراسي الأول
المادة: الدراسات الاجتماعية (هذا وطني)

تابع السؤال الثاني:

ثانيا : ادرس الوصف الجغرافي الآتي ثم اجب عن الأسئلة التي تليه :

(مدينة صلالة تقع في سهل حجري أجرد منبسّط يسمى (الجربيب) تحيط به جبال ظفار من جهة الشمال وبحر العرب من جهة الجنوب ، يمتد هذا السهل من مرفأ ريسوت غرباً إلى مدينة مرباط شرقاً، حيث يسود المناخ الموسمي اذ تهب الرياح الموسمية الصيفية الجنوبية الغربية من المحيط الهندي والرياح الموسمية الشتوية الشمالية الشرقية من أواسط آسيا)



١- ارسم كلا من الظواهر الآتية في الخريطة المقابلة:

أ- سلسلة جبال ظفار في موقعها الصحيح



باستخدام الرمز

ب - اتجاه الرياح الموسمية الصيفية باستخدام

الرمز →

٢ - اكتب كلا من الأسماء الجغرافية الآتية في موقعها الصحيح: محافظة ظفار

أ - بحر العرب . ب - سهل صلالة .

ثالثا : (ايجابية الفرد في المجتمع ليست بالكف عن الأعمال السلبية فقط بل ايضا بالعمل التطوعي لصالح المجتمع) في ضوء العبارة أجب عما يأتي:

١ - اذكر اثنين من أشكال العمل التطوعي الذي ستساهم بهما في مجتمعك.

.....
.....

٢ - ما الذي يدفعك للمساهمة في مثل هذه الأعمال ؟

.....

تابع امتحان الصف الحادي عشر
للعام الدراسي ١٤٣٧/١٤٣٨ هـ - ٢٠١٦/٢٠١٧ م
الدور الأول - الفصل الدراسي الأول
المادة: الدراسات الاجتماعية (هذا وطني)

السؤال الثالث:

أولاً : ادرس خريطة المواقع الأثرية في سلطنة عمان المقابلة ثم اجب عن الأسئلة الآتية:



١- صنف المواقع الأثرية الواردة في الخريطة حسب العصور التي تنتمي إليها (عصور حجرية وعصور ما قبل الميلاد) (يكفي بذكر موقعين لكل عصر)

العصور الحجرية	عصور ما قبل الميلاد

٢- استنتج طبيعة البيئة التي توجد فيها المستوطنات المشار إليها بالرموز الآتية :

- أ- ■
ب- ▲

٣- اذكر اثنين من المسميات التي أطلقت قديماً على الميناء المشار إليه بالرقم (١)

.....
.....

تابع امتحان الصف الحادي عشر
للعام الدراسي ١٤٣٧/١٤٣٨ هـ - ٢٠١٦/٢٠١٧ م
الدور الأول - الفصل الدراسي الأول
المادة: الدراسات الاجتماعية (هذا وطني)

تابع : السؤال الثالث:

ثانيا : دال من الأقوال التي ذكرها الرحالة والجغرافيون القدماء أدناه على الميزات التي تمتعت بها عمان قديماً في كل من المجالات الآتية في الجدول التالي :
(يكتفى بذكر اثنين لكل مجال) .

٢ - **الدمشقي** (تشتهر عمان بالأفلاج وهي شبه الأنهار وتستخدم في ري الأراضي وزراعتها)

١ - **المقدسي** (دورهم من الآجر والساج، شاهقة نفيسة، والجامع على البحر، له منارة حسنة طويلة في آخر الأسواق، ولهم آبار عذبة وقناة حلوة، ويعني الأفلاج)

٤ - **ابن بطوطة** (ذكر أن أهل المدينة أشبه الناس بأهل المغرب وأنهم أهل ثقى)

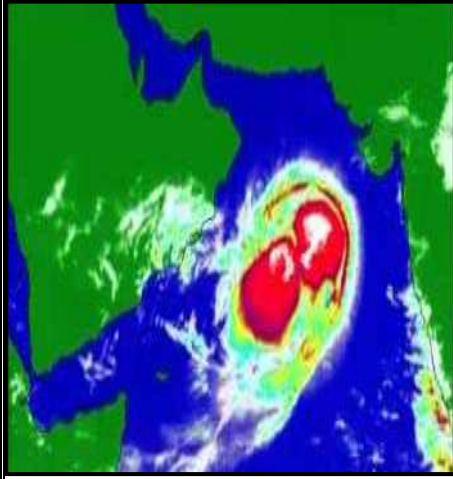
٣ - **ماركوبولو** (ظفار كانت ميناء مهما تصدر منه الخيول إلى الهند وكذلك كان يصدر منها اللبان)

الميزات الاقتصادية	الميزات الاجتماعية	الميزات العمرانية

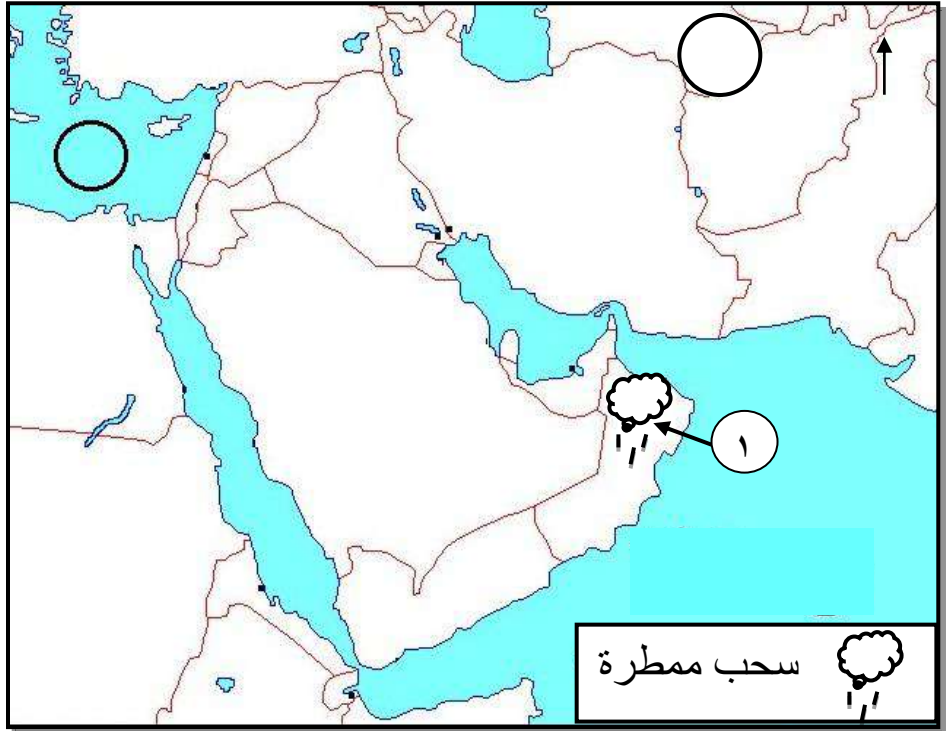
(٩)
تابع امتحان الصف الحادي عشر
للعام الدراسي ١٤٣٧/١٤٣٨ هـ - ٢٠١٦/٢٠١٧ م
الدور الأول - الفصل الدراسي الأول
المادة: الدراسات الاجتماعية (هذا وطني)

تابع : السؤال الثالث:

ثالثاً : ادرس الظواهر المناخية في الخرائط الآتية ثم اجب عن الأسئلة التي تليها:



٢



١

١- ارسم مسار أحد المنخفضات الجوية الذي يتأثر به الجزء المشار إليه بالرقم (١) في فصل الشتاء .

٢- حدد نوع الضغط الجوي (أ- مرتفع) (ب- منخفض) السائد شتاءً في المناطق المشار إليها بالدوائر على الخريطة رقم (١) .

٣- علل / ارتفاع الخسائر المادية عند تأثر سلطنة عمان بالظاهرة المناخية في الخريطة رقم (٢)

.....

.....

يتبع/١٠

تابع امتحان الصف الحادي عشر
للعام الدراسي ١٤٣٧/١٤٣٨ هـ - ٢٠١٦/٢٠١٧ م
الدور الأول - الفصل الدراسي الأول
المادة: الدراسات الاجتماعية (هذا وطني)

السؤال الرابع :

أولاً : ١- أمامك جدول يوضح مجالات التنمية الاجتماعية في عهد النهضة العمانية ادرسه جيداً ثم اجب عن الأسئلة التي تليه:

التنمية الاجتماعية الخاصة	التنمية الاجتماعية العامة
رعاية المسنين	التعليم - الصحة
رعاية ذوي الاعاقة	الاسكان - الكهرباء
الضمان الاجتماعي	المياه - الطرق
نظام الأسر البديلة	الاتصالات - الاعلام

فسر العبارة الآتية من خلال الجدول السابق (التنمية الاجتماعية التي شهدت السلطنة هي تنمية شاملة) .

٢- " علينا ان نستمد من تجاربنا الماضية عزمًا جديدًا وتصميماً أكيداً على العمل متعاونين متكاتفين بكل ما لدينا من طاقات البذل والعطاء والتفاني في اداء الواجب لنكون دائماً في مستوى القدرة على تذليل الصعاب وقهر التحديات وبلوغ الاهداف التي رسمناها لأنفسنا من أجل خير بلادنا وخير اجيالنا الحاضرة والقادمة " .

من الخطاب السامي لافتتاح المجلس الاستشاري بتاريخ ١٩٨١/١١/٣ م

استنتج اثنتين من سمات الشخصية العمانية من خلال الخطاب السابق .

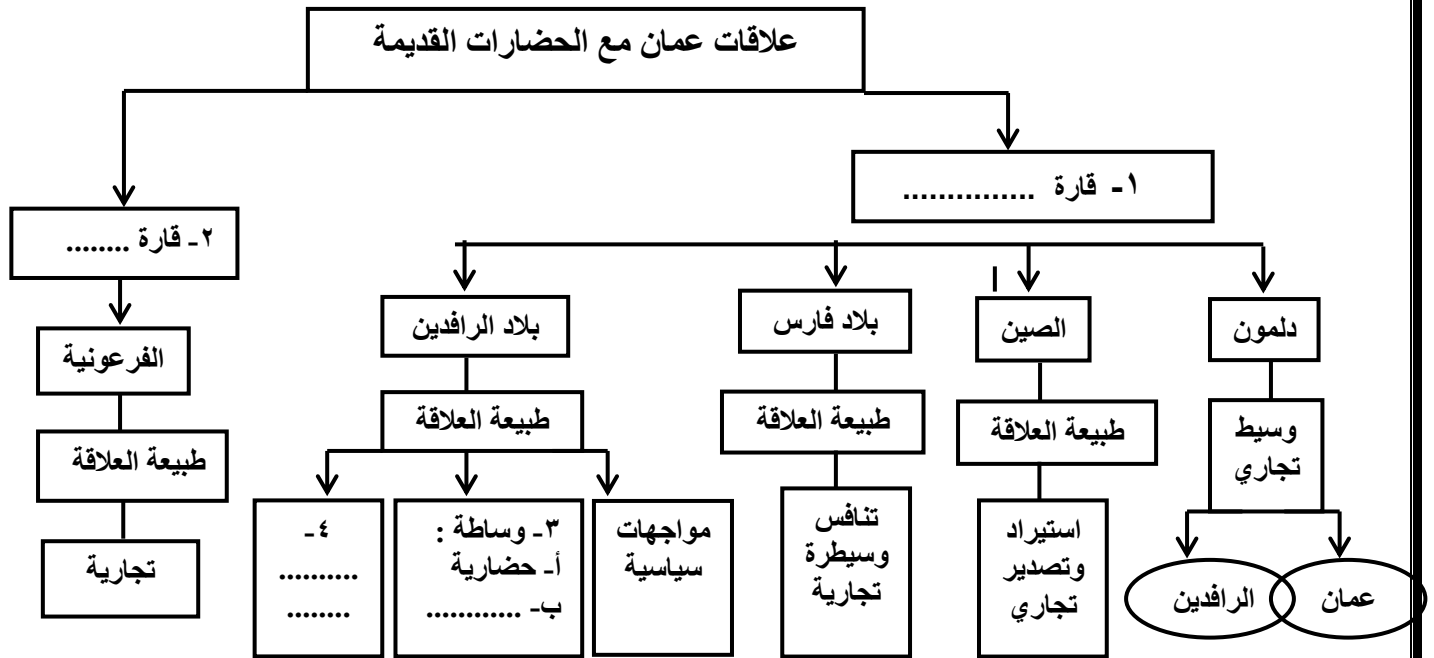
تابع امتحان الصف الحادي عشر
للعام الدراسي ١٤٣٧/١٤٣٨ هـ - ٢٠١٦/٢٠١٧ م
الدور الأول - الفصل الدراسي الأول
المادة: الدراسات الاجتماعية (هذا وطني)

تابع السؤال الرابع :

ثانيا : اذكر اثنين لكل مما يأتي :
١- مرتكزات المجتمع العماني

٢- استخدامات الأحجار الصلبة التي استوردتها الحضارات القديمة من حضارة عمان

ثالثا : ١- اكمل بيانات المخطط الذي يمثل علاقات عمان مع الحضارات القديمة .



٢- ما وجه الشبه في طبيعة العلاقة التي تربط بين عمان و الحضارات القديمة الواردة في المخطط .

انتهت الأسئلة مع الدعاء للجميع بالتوفيق والنجاح.



نموذج إجابة امتحان الصف الحادي عشر
للعام الدراسي ١٤٣٧/١٤٣٨ هـ - ٢٠١٦/٢٠١٧ م
الدور الأول - الفصل الدراسي الأول

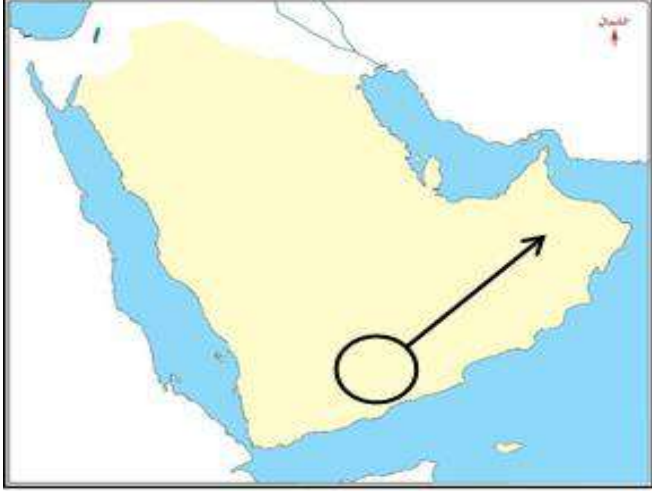
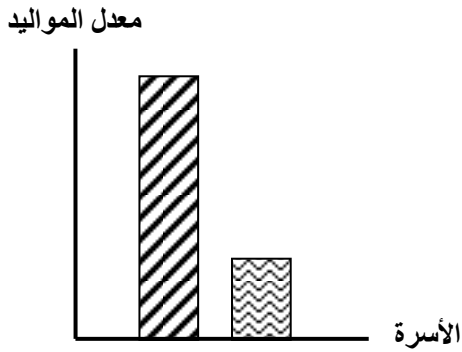
المادة: الدراسات الاجتماعية (هذا وطني في السيرة الحضارية لعمان) الدرجة الكلية: (٦٠) درجة
تنبيهه: نموذج الإجابة في (٥) صفحات

أولاً: إجابة السؤال الموضوعي:

إجابة السؤال الأول					الدرجة: (٢٤) درجة										
المفردة	البديل الصحيح	الإجابة	الدرجة	الصفحة	المستوى المعرفي										
١	ب	٢	٢	١٨	فهم وتطبيق										
٢	ج	التنمية الاجتماعية	٢	٨٢	معرفة										
٣	ب	الصحي	٢	٧٧	معرفة										
٤	د	الحموي	٢	١٨	معرفة										
٥	د	<table><tr><td>الحضارة</td><td>التسمية</td></tr><tr><td>١</td><td>عمانة</td></tr><tr><td>٢</td><td>أوفير</td></tr><tr><td>٣</td><td>ماكان</td></tr><tr><td>٤</td><td>مزون</td></tr></table>	الحضارة	التسمية	١	عمانة	٢	أوفير	٣	ماكان	٤	مزون	٢	٤٢-٤٣	قدرات عليا
			الحضارة	التسمية											
			١	عمانة											
			٢	أوفير											
			٣	ماكان											
٤	مزون														
معرفة															
٦	ب	البرزة	٢	٧٢											
٧	ج	جيولوجي	٢	٢٦											
فهم وتطبيق															

(٢)

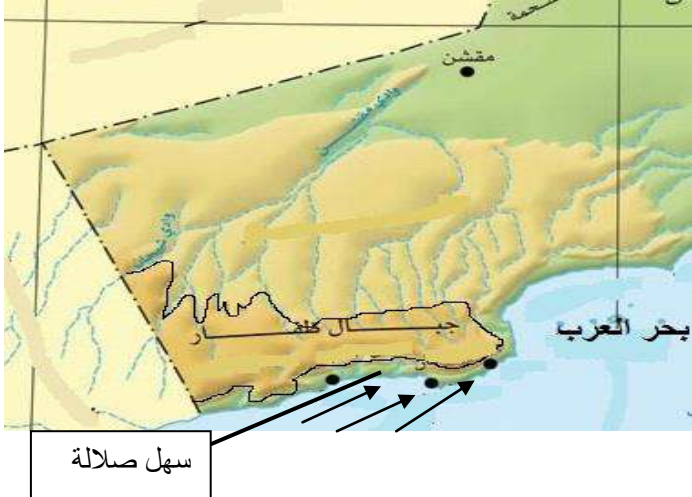
تابع : نموذج إجابة امتحان الصف الحادي عشر
للعام الدراسي ١٤٣٧/١٤٣٨ هـ - ٢٠١٦/٢٠١٧ م
الدور الأول - الفصل الدراسي الأول

تابع : إجابة السؤال الأول					
الدرجة : (٢٤) درجة					
المستوى التعليمي	الصفحة	الدرجة	الإجابة	البديل الصحيح	المفردة
فهم وتطبيق	٥٩	٢		أ	٨
فهم وتطبيق	٣٧	٢	١	أ	٩
معرفة	٤٧	٢	الحجري الوسيط	ب	١٠
فهم وتطبيق	٣٣	٢	ظفار	د	١١
قدرات عليا	٧٣	٢		د	١٢

(٣)

تابع : نموذج إجابة امتحان الصف الحادي عشر
للعام الدراسي ١٤٣٧/١٤٣٨ هـ - ٢٠١٦/٢٠١٧ م

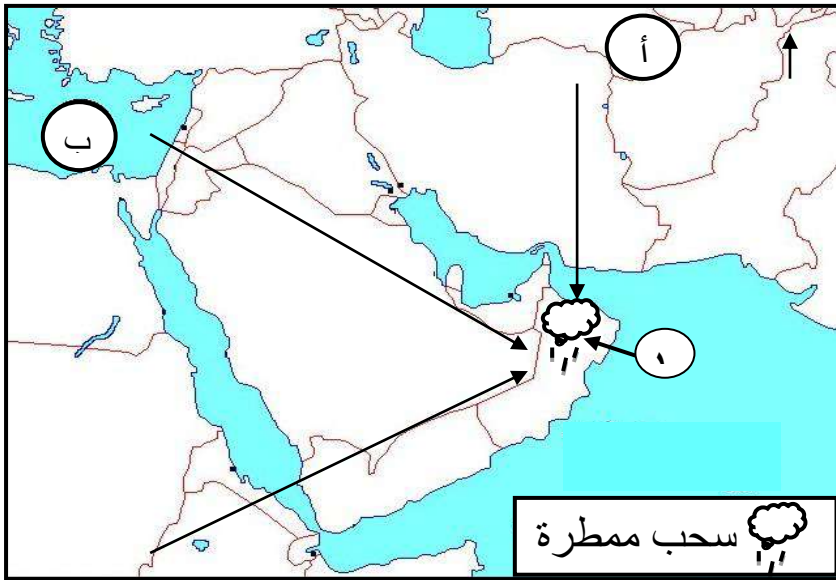
ثانياً: إجابة الأسئلة المقالية الدور الأول - الفصل الدراسي الأول

إجابة السؤال الثاني					
الدرجة الكلية : (١٢) درجة					
الجزئية	المفردة	الإجابة الصحيحة	الدرجة	الصفحة	المستوى التعليمي
أولاً	١	التأمين الصحي : إجراءات يقوم من خلالها الفرد / الحكومة / الشركات بدفع اشتراكات سنوية إلى مؤسسات معينة وهذه المؤسسات تؤمن بدورها الخدمات الصحية المختلفة في حالة مرض الفرد .	٢	٨٠	معرفة
	٢	المسافة : مصطلح أطلقه العمانيون على الواحات الجبلية التي أنشأوها على المصاطب الصخرية عند رؤوس الأودية بالقرب من العيون المائية / هي التي يتطلب أنشاؤها جهوداً بشرية كبيرة لإقامة المدرجات الزراعية على الحافات الجبلية ونقل التربة إليها / وربما يعود الاسم إلى السفي أي التراب <u>في حالة ذكر الطالب عبارة ان الاسم يعود إلى السفي أي التراب فقط يعطى درجة واحدة .</u>	٢	٣٠	
ثانياً	١ ، أ ، ب		٢ لكل درجة	٢٧	قدرات عليا
	٢ ، أ ، ب		٢ لكل درجة		
ثالثاً	١	التبرع بالدم / معسكرات العمل الوطنية التي تقام في الفترة الصيفية / المشاركة في مجموعات دعم صحة المجتمع / التعاون مع أفراد المجتمع في مواسم الحصاد ، الصيد / المشاركة في الأفراح والأفراح / تقديم النصح والمشورة / مساعدة الفقراء والأيتام وكبار السن. (يكتفى باثنين) <u>إذا ذكر الطالب أي اعمال تطوعية في سياق المعنى يعطى الدرجة كاملة</u>	٢ لكل درجة	٧٦ - ٧٧	فهم وتطبيق
	٢	لأن العمل التطوعي من سمات المواطن الصالح الملزم بتعاليم دينه الذي يحث على البذل والعطاء دون انتظار مقابل / لأن المجتمع بحاجة الى افراد لخدمته . <u>(يكتفى بواحدة)</u> <u>إذا ذكر الطالب رأياً آخر في سياق المعنى يعطى الدرجة كاملة</u>	٢	٧٦	

تابع : نموذج إجابة امتحان الصف الحادي عشر
للعام الدراسي ١٤٣٧/١٤٣٨ هـ - ٢٠١٦/٢٠١٧ م
الدور الأول - الفصل الدراسي الأول

الدرجة الكلية : (١٢) درجة

إجابة السؤال الثالث

الجزئية	المفردة	الإجابة الصحيحة	الدرجة	الصفحة	المستوى التعليمي									
أولا	١	<table><tr><td>العصور الحجرية</td><td>عصور ما قبل الميلاد</td></tr><tr><td>سيوان - الوطية</td><td>الواسط - رأس الحمراء - رأس الجنز</td></tr></table>	العصور الحجرية	عصور ما قبل الميلاد	سيوان - الوطية	الواسط - رأس الحمراء - رأس الجنز	٢ لكل نصف درجة	٥٠ - ٤٨	فهم وتطبيق					
	العصور الحجرية	عصور ما قبل الميلاد												
	سيوان - الوطية	الواسط - رأس الحمراء - رأس الجنز												
٢	أ ■ ساحلي / بحري ب ▲ داخلي / صحراوي / بري	١ ١	٥٠											
٣	مسقا - خليج سكاليتس - سمهرم - خورروري	١ لكل نصف درجة	٤٢											
ثانيا		<table><tr><th>الميزات الاقتصادية</th><th>الميزات الاجتماعية</th><th>الميزات العمرانية</th></tr><tr><td>أسواق - موانئ - سلع تجارية (الخيول - اللبان) - أراضي زراعية</td><td>أهل تقى - أشبه الناس بأهل المغرب</td><td>أفلاج - دورهم من الآجر والساج - شاهقة نفيسة - الجامع على البحر - المدينة</td></tr><tr><td><u>يكتفى باثنين</u></td><td><u>يكتفى باثنين</u></td><td><u>كتفى باثنين</u></td></tr></table>	الميزات الاقتصادية	الميزات الاجتماعية	الميزات العمرانية	أسواق - موانئ - سلع تجارية (الخيول - اللبان) - أراضي زراعية	أهل تقى - أشبه الناس بأهل المغرب	أفلاج - دورهم من الآجر والساج - شاهقة نفيسة - الجامع على البحر - المدينة	<u>يكتفى باثنين</u>	<u>يكتفى باثنين</u>	<u>كتفى باثنين</u>	٣ لكل نصف درجة	١٩ - ١٨	قدرات عليا
	الميزات الاقتصادية	الميزات الاجتماعية	الميزات العمرانية											
أسواق - موانئ - سلع تجارية (الخيول - اللبان) - أراضي زراعية	أهل تقى - أشبه الناس بأهل المغرب	أفلاج - دورهم من الآجر والساج - شاهقة نفيسة - الجامع على البحر - المدينة												
<u>يكتفى باثنين</u>	<u>يكتفى باثنين</u>	<u>كتفى باثنين</u>												
ثالثا	١	 <p>سحب ممطرة</p>	١	٣٦	فهم وتطبيق									
	٢		١ لكل نصف درجة	٣٧										
	٣		٢	٣٦										
		لأنها تؤدي إلى سقوط الأمطار الغزيرة / حدوث الفيضانات / قلة الوعي في التعامل مع هذه الظواهر . <u>(يكتفى بواحدة)</u> <u>إذا ذكر الطالب إجابة أخرى في سياق المعنى يعطى الدرجة</u>												

تابع : نموذج إجابة امتحان الصف الحادي عشر
للعام الدراسي ١٤٣٧/١٤٣٨ هـ - ٢٠١٦/٢٠١٧ م
الدور الأول - الفصل الدراسي الأول

إجابة السؤال الرابع				
الدرجة الكلية : (١٢) درجة				
الجزئية	المفردة	الإجابة الصحيحة	الدرجة	الصفحة
أولاً	١	لأن التنمية لم تستهدف جانباً واحداً في حياة المجتمع بل امتدت لتشمل جوانب الحياة المختلفة / لم تركز على فئة عمرية دون الأخرى حيث شملت المسنين وذوي الإعاقة والضمان الاجتماعي وجميع شرائح المجتمع / قدمت الرعاية التي تحتاجها مختلف فئات المجتمع العمرية / لأنها شملت جميع الخدمات الخاصة والعامة <u>يكتفى بواحدة</u>	٢	٧٨
	٢	المثابرة / المغامرة / تحدي الصعاب / تكييف ظروف بيئتها لصالح إيجاد حياة كريمة وشريفة / الاعتزاز بأهمية العمل والانتاج / التمسك بالقيم الاجتماعية / البذل والعطاء والتفاني (التمسك بالمبادئ والقيم الاجتماعية) / احترام العلاقات بين أفراد المجتمع / <u>يكتفى باثنين</u>	٢ لكل درجة	٧٠
ثانياً	١	الإهتمام بالتعليم - الصحة - المساواة بين أفراد المجتمع - الأسرة العمانية - الدين الاسلامي - اللغة العربية - المحافظة على التراث الوطني - الوحدة الوطنية - العمل - الاطر الدستورية والقانونية - العادات والتقاليد والقيم الاصيلية <u>يكتفى باثنين</u>	٢ لكل درجة	٦٩-٦٨
	٢	بناء التماثيل / صناعة الأواني والاختام / بناء المعابد / تحديد الأوزان . <u>يكتفى باثنين</u>	٢ لكل درجة	٥٥
ثالثاً	أ	١- أسيا ٢- أفريقيا ٣- ب - تجارية ٤- تبادل تجاري / استيراد وتصدير تجاري	٢ لكل نصف درجة	٥٦-٥١
	ب	إن علاقة عمان مع الحضارات الأخرى علاقة تجارية وحضارية / تبادل تجاري/ وساطة تجارية . <u>يكتفى بواحدة</u> إذا ذكر الطالب اجابة اخرى فى سياق المعنى يعطى الدرجة	٢	٥٦ - ٥١

نهاية نموذج الإجابة.



امتحان الصف الحادي عشر
للعام الدراسي ١٤٣٤/١٤٣٥ هـ - ٢٠١٣/٢٠١٤ م
الدور الأول - الفصل الدراسي الأول

- المادة: الدراسات الاجتماعية (هذا وطني في السيرة الحضارية لعمان) ● عدد صفحات أسئلة الامتحان: (٧) .
- زمن الإجابة: ساعتان
- الإجابة في الورقة نفسها.

اسم الطالب			الصف
المدرسة			

السؤال	الدرجة بالأرقام (بالأحمر)		الدرجة بالحروف (بالأحمر)	(التوقيع بالاسم)	
	آحاد	عشرات		المصحح (بالأحمر)	المدقق (بالأخضر)
١					
٢					
٣					
٤					
المجموع				جمعه (بالأحمر)	مراجعة الجمع والتشطيب (بالأزرق)
المجموع الكلي	٦٠				

امتحان الصف الحادي عشر

للعام الدراسي ١٤٣٤/١٤٣٥ هـ — ٢٠١٣/٢٠١٤ م

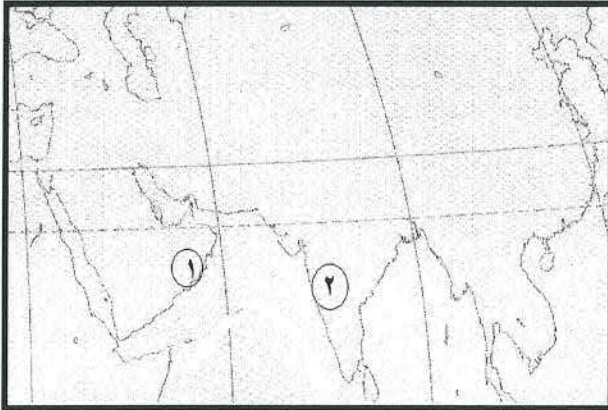
الدور الأول - الفصل الدراسي الأول

- المادة: الدراسات الاجتماعية (هذا وطني في السيرة الحضارية لعمان)
- تنبيه: الأسئلة في (٧) صفحات.
- زمن الإجابة: ساعتان.

أجب عن جميع الأسئلة الآتية:

السؤال الأول: ضع دائرة حول رمز الإجابة الصحيحة لكل مفردة من المفردات الآتية:


- ١ (يشير اسم مزون الذي أطلقه الفرس على عمان قديماً إلى:
- أ - إنتاج النحاس.
- ب - الاستقرار والإقامة.
- ج - وفرة المياه.
- د - ازدهار الموانئ.



- ٢ (سلعة اقتصادية كانت تُصدّر في القرن ١٣م من الميناء رقم (١) إلى المنطقة رقم (٢) في الخريطة المقابلة:

- أ - الأسلحة.
- ب - الخيول.
- ج - الأخشاب.
- د - الأختام.

- ٣ (الموقع الفلكي لمسار عمان الجيولوجي في المرحلة المشار إليها بالرقم (١) في الشكل الآتي:

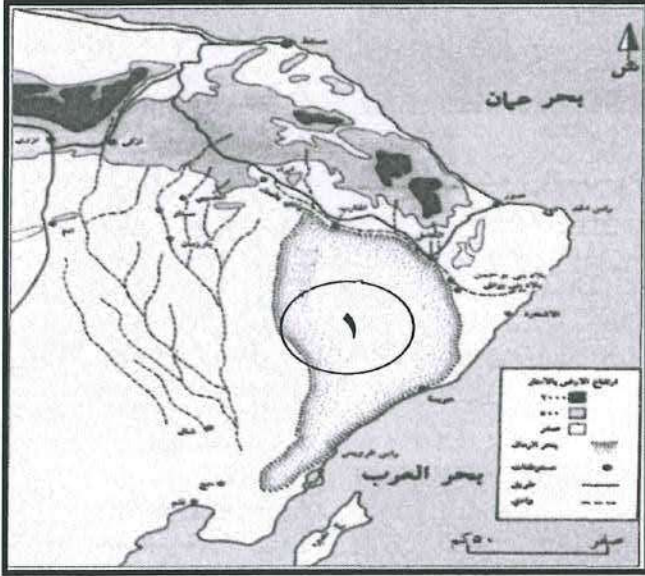


- أ - دائرة الاستواء.
- ب - الدائرة القطبية.
- ج - مدار السرطان.
- د - مدار الجدي.

- ٤ (الولاية التي يشعر سكانها في فصل الصيف بالإرهاق الحراري أكثر من غيرها:

- أ - صور.
- ب - نزوى.
- ج - إبراء.
- د - أدم.


تابع السؤال الأول:




٥ (الشكل التضاريسي الذي يحد المنطقة المشار إليها بالرقم (١) من جهة الغرب في الخريطة المقابلة:

- أ - أخوار.
ب - سلاسل جبلية.
ج - أودية.
د - سهول ساحلية.


٦ (النقوش الصخرية القديمة التي عثر عليها في جبال ظفار:




ب -



أ -



د -



ج -

٧ (اتسمت الأسرة العمانية في عصر النهضة بـ :

- أ - الزواج في سن مبكرة.
ب - إنجاب عدد كبير من الأطفال.
ج - تأخر سن الزواج.
د - تحمل المسؤولية في سن صغيرة.

(٣)
امتحان الصف الحادي عشر
للعام الدراسي ١٤٣٤/١٤٣٥ هـ — ٢٠١٣ / ٢٠١٤ م
الدور الأول - الفصل الدراسي الأول
المادة : الدراسات الاجتماعية " هذا وطني "

تابع السؤال الأول:

٨ (تسقط معظم أمطار جنوب عمان في فصل:

- أ- الربيع. ب- الخريف. ج- الشتاء. د- الصيف .

٩ (الرقم الذي يشير إلى موقع الإمارة التي أسسها سليمة بن مالك بن فهم:



- أ- ١
ب- ٢
ج- ٣
د- ٤

١٠ (المثال الدال على التفاعل الاجتماعي الحديث في المجتمع العماني :

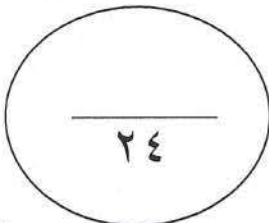
- أ- حصاد اللبان. ب - جني التمور.
ج- صيد السمك. د- التبرع بالدم.

١١ (تُعد المحافظة على التراث الوطني من:

- أ - العادات والتقاليد العمانية .
ج - خصائص المجتمع العماني .
ب - مرتكزات المجتمع العماني.
د - سمات الشخصية العمانية.

١٢ (نجحت الجاليات العمانية والعربية في تحويل الموانئ الصينية إلى الإسلام وثقافته منذ القرن الهجري :

- أ- الأول. ب- الثاني. ج- الثالث. د - الرابع .



(٤)
امتحان الصف الحادي عشر
للعام الدراسي ١٤٣٤/١٤٣٥ هـ — ٢٠١٣ / ٢٠١٤ م
الدور الأول - الفصل الدراسي الأول
المادة : الدراسات الاجتماعية " هذا وطني "

السؤال الثاني:

أ) اذكر اثنين لكل من:

١- أوجه الوقف عند العمانيين .

.....
.....

٢- الآراء حول تسمية عمان بهذا الاسم .

.....
.....

ب) علل لما يأتي:

١- وجود تباينات تضاريسية على أراضي السلطنة.

.....
.....
.....

٢- ضرورة التعامل مع المياه في السلطنة بمسؤولية وعدم الاستنزاف .

.....
.....
.....

ج) ١- صنف السلع الآتية إلى سلع استوردتها الصين و سلع صدرتها في تبادلها التجاري مع عمان .
(التمور، العنبر، اللبان، الخزف)

السلع المستوردة	السلع المصدرة
الصين	

٢- حدد الوسيط التجاري بين كل حضارتين من الحضارات الآتية:

الحضارة	الوسيط	الحضارة
مجان		سومر
بابل		الهند

السؤال الثالث:

أ (ادرس الخريطة الآتية جيداً، ثم
اجب عن الأسئلة التي تليها:

١- وقع مسار الهجرات الآتية بنقل

الحرف المقابل للهجرة إلى السهم

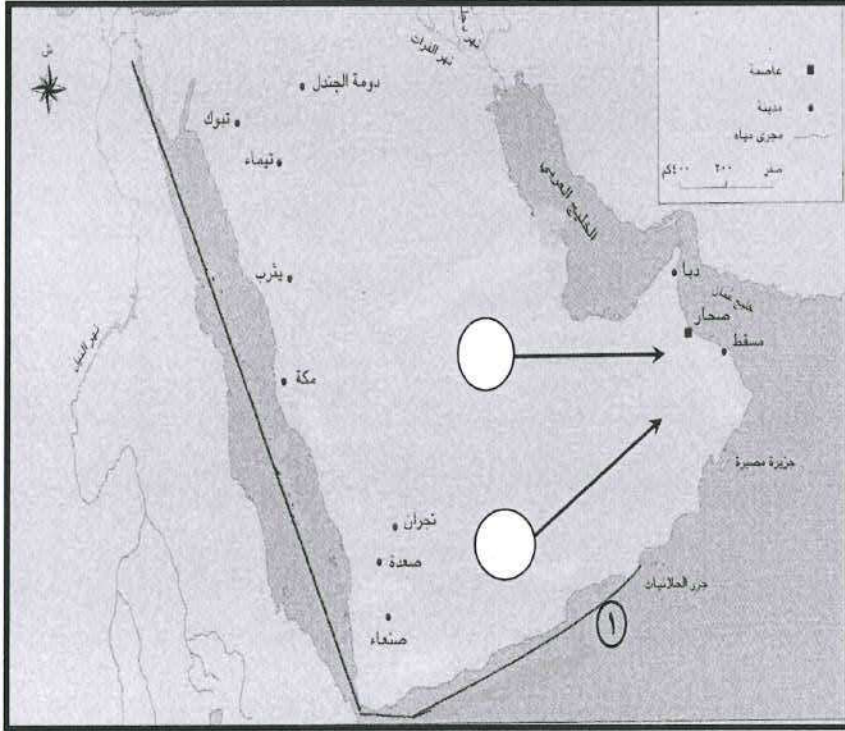
الصحيح على الخريطة:

أ- هجرة القحطانيين إلى عمان.

ب- هجرة العدنانيين إلى عمان

٢- حدد موقع مستوطنة رأس الحمراء

باستخدام الرمز (Δ).



٣- ما المسطحات المائية التي يمر بها خط التجارة البحري المشار إليه بالرقم (١) ؟

.....

.....

ب (دلل لما يأتي:

١ - لم تكن بدايات التكوين الاجتماعي في بعض أنحاء عمان مستقرة في مكان واحد .

.....

.....

.....

٢ - رعاية الحكومة العمانية لذوي الإعاقة .

.....

.....

.....

(٦)
امتحان الصف الحادي عشر
للعام الدراسي ١٤٣٤/١٤٣٥ هـ — ٢٠١٣ / ٢٠١٤ م
الدور الأول - الفصل الدراسي الأول
المادة : الدراسات الاجتماعية " هذا وطني "

تابع السؤال الثالث:

ج (انسب المقولات الآتية للجغرافيين والرحالة:

الوصف	اسم الجغرافي أو الرحالة
صحار قسبة عمان فهي تقع على البحر وبها متاجر وتقصدها المراكب.
نزوى تقع في الجبال وهي مدينة كبيرة بناء بيوتها من الطين ويقع جامعها في وسط السوق.
ظفار مدينة تحيطها الصحراء ويقع قصر السلطان داخل المدينة.
مسقط مدينة من نواحي عمان على ساحل البحر.

١٢

السؤال الرابع:

أ (وضح ما يأتي:

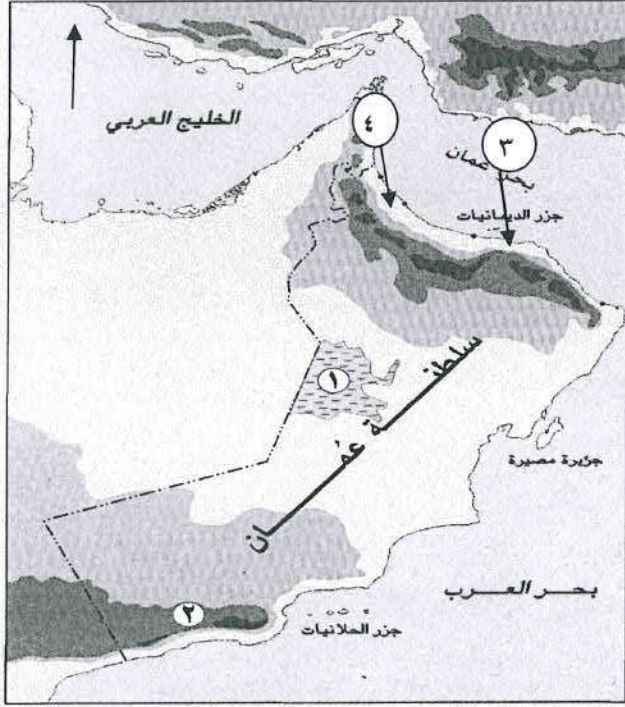
١- الاستفادة الحضارية لعمان من موقعها بين حضارات مهمة.

.....
.....
.....
.....

٢- تأثير الحياة الاقتصادية على حجم الأسرة العمانية قديماً.

.....
.....
.....
.....

تابع السؤال الرابع:



ب (أمامك خريطة سلطنة عمان ادرسها جيدا ثم
اجب عن الأسئلة الآتية :

١- ارسم على الخريطة اتجاه الرياح التي ساعدت
العُمانيين في الإبحار إلى سواحل شرقي أفريقيا.

٢- ما الرقم الذي يشير إلى المحافظة التي يقام
فيها سباق الخيل السلطاني السنوي ؟

.....

٣ - قارن بين المنطقة (١) والمنطقة (٢) في الخريطة
من حيث: أ - المناخ السائد
ب - الشكل التضاريسي

المنطقة رقم (٢)	المنطقة (١)	
		المناخ السائد
		الشكل التضاريسي


ج (ما أوجه الشبه والاختلاف بين سهل جريب وسهل الباطنة؟

أوجه الاختلاف	أوجه الشبه

نموذج إجابة امتحان الصف الحادي عشر
 للعام الدراسي ١٤٣٤/١٤٣٥ هـ - ٢٠١٣/٢٠١٤ م
 الدور الأول - الفصل الدراسي الأول

المادة: الدراسات الاجتماعية (هذا وطني في السيرة الحضارية لعمان) الدرجة الكلية: (٦٠) درجة
 تنبيه: نموذج الإجابة في (٥) صفحات

أولاً: إجابة السؤال الموضوعي:

إجابة السؤال الأول				
الدرجة: (٢٤) درجة				
المفردة	البديل الصحيح	الإجابة	الدرجة	الصفحة
١	ج	وفرة المياه	٢	٤٣
٢	ب	الخيول	٢	١٩
٣	أ	دائرة الاستواء	٢	٢٥
٤	أ	صور	٢	٣٧
٥	ج	أودية	٢	٣١
٦	د		٢	٤٧
٧	ج	تأخر سن الزواج	٢	٧٣
٨	د	الصيف	٢	٣٤
٩	أ	١	٢	٥٩
١٠	د	التبرع بالدم	٢	٧٦
١١	ب	مرتكزات المجتمع العماني	٢	٦٨
١٢	أ	الأول	٢	٥٦
المجموع			٢٤ درجة	

(٢)
تابع نموذج إجابة امتحان الصف الحادي عشر
للعام الدراسي ١٤٣٤/١٤٣٥ هـ - ٢٠١٣/٢٠١٤ م
الدور الأول - الفصل الدراسي الأول
المادة: الدراسات الاجتماعية (هذا وطني)
ثانياً: إجابة الأسئلة المقالية:

إجابة السؤال الثاني		الدرجة الكلية : (١٢) درجة	
الجزئية	المفردة	الإجابة الصحيحة	الدرجة
أ	١	- أوقاف مخصصة للمساجد/ عمارة المساجد وخدماتها وتوفير مياه الشرب والإنارة والفراش والطلاء - أوقاف مخصصة لجماعة المسجد/ تقديم وجبات الفطور والسحور في شهر رمضان والوجبات الأخرى في بقية أيام السنة /توزيع النقود في يوم عرفة - أوقاف مخصصة للحارة (الحي)/ توزيع العوائد المالية على أهل الحارة / خدمات في الحارة كنظافة الطرق وإصلاح القناطر وأسوار الحارة وتجهيز التنور - أوقاف خاصة لكتابة الصكوك الشرعية/ شراء العصي للعميان/ تجهيزات الجنازة والمقابر - أوقاف خاصة للفقراء والأيتام - أوقاف تخصص للتعليم.	٢
	٢	- سميت نسبة إلى عمان بن إبراهيم الخليل عليه السلام. - نسبة إلى قبيلة قحطانية في اليمن. - نسبة إلى وادي في اليمن يسمى عمان. " يكتفى باثنين لكل درجة "	٢
ب	١	مرور السلطنة بأحداث جيولوجية كبيرة / بفعل العوامل الأرضية والعناصر الطبيعية التي عملت على تشكيل سطح الأرض في عمان / وجود تكوينات جيولوجية تحتوي على معظم صخور القشرة الأرضية والتباينات الجيولوجية . "يكتفى بتعليل واحد"	٢
	٢	تعد الأمطار المصدر الوحيد لإمداد السلطنة بالمياه/ تتصف الأمطار في السلطنة بأنها شحيحة وغير منتظمة/ كما تتصف بالفجائية والغزارة والبقعية والتباين الزمني والمكاني/ مرور السلطنة بفترات جفافا طويلة. "يكتفى بتعليل واحد"	٢

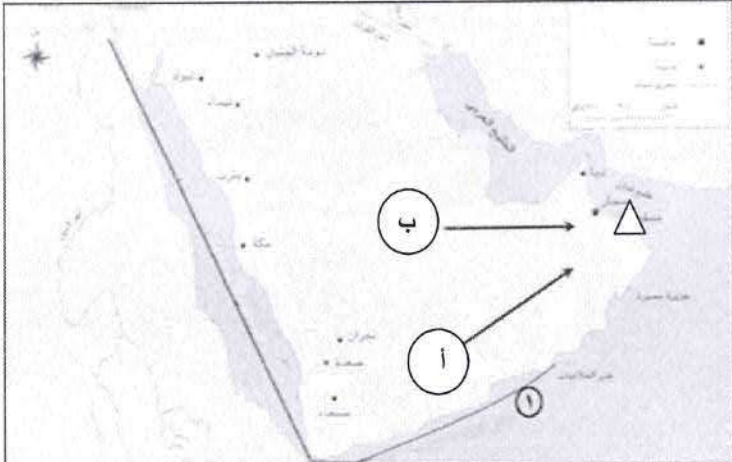
تابع نموذج إجابة امتحان الصف الحادي عشر
للعام الدراسي ١٤٣٤/١٤٣٥ هـ - ٢٠١٣/٢٠١٤ م
الدور الأول - الفصل الدراسي الأول
المادة: الدراسات الاجتماعية (هذا وطني)
تابع ثانياً: إجابة الأسئلة المقالية:

تابع إجابة السؤال الثاني

ج	١	<table><tr><td>المصدر</td><td>المستورد</td><td></td></tr><tr><td>الصين</td><td>اللبان والتمور</td><td>العنبر والخزف</td></tr></table>			المصدر	المستورد		الصين	اللبان والتمور	العنبر والخزف			
		المصدر	المستورد										
		الصين	اللبان والتمور	العنبر والخزف									
"لكل مفردة نصف درجة"													
	٢	<table><tr><td>الحضارة</td><td>الوسيط</td><td>الحضارة</td></tr><tr><td>مجان</td><td>دلمون (البحرين)</td><td>سومر</td></tr><tr><td>بابل</td><td>مجان (عمان)</td><td>الهند</td></tr></table>			الحضارة	الوسيط	الحضارة	مجان	دلمون (البحرين)	سومر	بابل	مجان (عمان)	الهند
		الحضارة	الوسيط	الحضارة									
		مجان	دلمون (البحرين)	سومر									
بابل	مجان (عمان)	الهند											

إجابة السؤال الثالث

الدرجة الكلية: (١٢) درجة

الصفحة	الدرجة	الإجابة الصحيحة	المفردة	الجزئية
٦١	١	 <p>١- أ- الإجابة على الخريطة ب- الإجابة على الخريطة ٢- الإجابة على الخريطة ٣- بحر العرب/ والبحر الاحمر / المحيط الهندي/ خليج عدن . " يكتفى بواحد وله درجة "</p>		أ
٦٦	٢	وجود مكتشفات في أماكن كثيرة لم تعد الآن مأهولة بالسكان. "أو ما يفيد المعنى"	١	
٨٢	٢	توفير الأجهزة التعويضية اللازمة لهم/ دعم البرامج الرياضية لذوي الإعاقة/ توفير فرص عمل لهم/ برنامج التأهيل المجتمعي/ تأسيس مراكز الوفاء لتأهيل الأطفال المعوقين. " يكتفى بواحد وله درجتان "	٢	ب

(٤)
تابع نموذج إجابة امتحان الصف الحادي عشر
للعام الدراسي ١٤٣٤/١٤٣٥ هـ - ٢٠١٣/٢٠١٤ م
الدور الأول - الفصل الدراسي الأول
المادة: الدراسات الاجتماعية



ثانياً: إجابة الأسئلة المقالية:

تابع إجابة السؤال الثالث				
الجزئية	المفردة	الإجابة الصحيحة		الدرجة
ج		الوصف	اسم الرحالة والجغرافي	٤
		صحار قصبة عمان فهي تقع على البحر وبها متاجر وتقصد المراكب.	الإصطخري	
		نزوى تقع في الجبال وهي مدينة كبيرة بناء بيوتها من الطين ويقع جامعها في وسط السوق.	المقدسي	
		ظفار مدينة تحيطها الصحراء ويقع قصر السلطان بداخلها.	ابن بطوطة	
		مسقط مدينة من نواحي عمان على ساحل البحر.	الحموي	
		"لكل مفردة درجة"		
إجابة السؤال الرابع				
الدرجة الكلية : (١٢) درجة				
أ	١	اطلع أهلها على جوانب التقدم لتلك الحضارات وتمكنوا من الأخذ من إنجازاتها، وكان لهم دورا في نقل تلك الإنجازات إلى حضارات أخرى .		٢
	٢	اتسمت الأسرة بأنها كبيرة وممتدة لأن الحياة الاقتصادية كانت قائمة على عمل أفراد الأسرة في مهنة مشتركة في الصيد أو الرعي أو التجارة أو الصناعة .		٢
				٤٥
				٧٣

يتبع/٥

(٥)
تابع نموذج إجابة امتحان الصف الحادي عشر
للعام الدراسي ١٤٣٤/١٤٣٥ هـ - ٢٠١٣/٢٠١٤ م
الدور الأول - الفصل الدراسي الأول
المادة: الدراسات الاجتماعية
تابع ثانياً: إجابة الأسئلة المقالية:

تابع إجابة السؤال الرابع

تابع إجابة السؤال الرابع													
٥٨	١		١	ب									
٧٢	١	رقم (٣)	٢										
٣٤ - ٢٧	٢	<table> <tr> <th>المنطقة رقم (٢)</th> <th>المنطقة (١)</th> <th></th> </tr> <tr> <td>موسمي (شبه موسمي)</td> <td>صحراوي (حار أو جاف)</td> <td>المناخ السائد</td> </tr> <tr> <td>جبلية (جبال)</td> <td>سبخة /منطقة حوضية مستوية السطح منخفضة المنسوب عما يجاورها من أراضي.</td> <td>الشكل التضاريسي</td> </tr> </table> <p>"لكل نصف درجة"</p>	المنطقة رقم (٢)	المنطقة (١)		موسمي (شبه موسمي)	صحراوي (حار أو جاف)	المناخ السائد	جبلية (جبال)	سبخة /منطقة حوضية مستوية السطح منخفضة المنسوب عما يجاورها من أراضي.	الشكل التضاريسي	٣	
المنطقة رقم (٢)	المنطقة (١)												
موسمي (شبه موسمي)	صحراوي (حار أو جاف)	المناخ السائد											
جبلية (جبال)	سبخة /منطقة حوضية مستوية السطح منخفضة المنسوب عما يجاورها من أراضي.	الشكل التضاريسي											
٣٤ + ٢٩	٢ + ٢	<table> <tr> <th>أوجه الاختلاف</th> <th>أوجه التشابه</th> </tr> <tr> <td>سهل الباطنة أطول وأكبر مساحة من سهل جريبب/ سهل جريبب يتعرض لرياح موسمية/ ويتميز بطقس معتدل صيفا / وتجري فيه مياه العيون/ تنتشر زراعة جوز الهند في جريبب وزراعة النخيل في سهل الباطنة/ الباطنة في الشمال وجريبب في الجنوب.</td> <td>سهول ساحلية/ كونتها إرسابات فيضية/ زراعية / ظهور مدن سكنية وصناعية / مناخ حار شبه جاف.</td> </tr> <tr> <td>"يكتفى باثنين لكل درجة"</td> <td>"يكتفى باثنين لكل درجة"</td> </tr> </table>	أوجه الاختلاف	أوجه التشابه	سهل الباطنة أطول وأكبر مساحة من سهل جريبب/ سهل جريبب يتعرض لرياح موسمية/ ويتميز بطقس معتدل صيفا / وتجري فيه مياه العيون/ تنتشر زراعة جوز الهند في جريبب وزراعة النخيل في سهل الباطنة/ الباطنة في الشمال وجريبب في الجنوب.	سهول ساحلية/ كونتها إرسابات فيضية/ زراعية / ظهور مدن سكنية وصناعية / مناخ حار شبه جاف.	"يكتفى باثنين لكل درجة"	"يكتفى باثنين لكل درجة"		ج			
أوجه الاختلاف	أوجه التشابه												
سهل الباطنة أطول وأكبر مساحة من سهل جريبب/ سهل جريبب يتعرض لرياح موسمية/ ويتميز بطقس معتدل صيفا / وتجري فيه مياه العيون/ تنتشر زراعة جوز الهند في جريبب وزراعة النخيل في سهل الباطنة/ الباطنة في الشمال وجريبب في الجنوب.	سهول ساحلية/ كونتها إرسابات فيضية/ زراعية / ظهور مدن سكنية وصناعية / مناخ حار شبه جاف.												
"يكتفى باثنين لكل درجة"	"يكتفى باثنين لكل درجة"												

الدرجة الكلية ٦٠ درجة

أنتهى نموذج الإجابة
zadelm.com